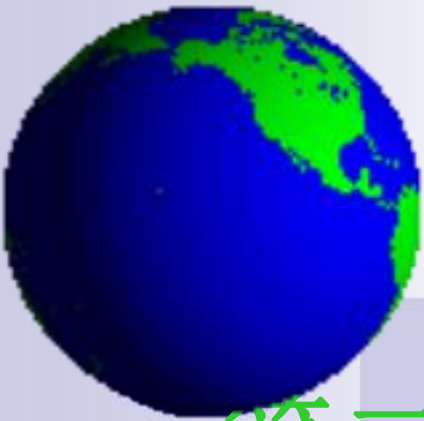


说一说：

你的早餐吃了什么？





四章 中国的经济发展

第二节 因地制宜发展农业

第二节

农业

- ❖ 我们的家乡
- ❖ 在希望的田野上
- ❖ 炊烟在新建的住房上飘荡
- ❖ 小河在美丽的村庄旁流淌
- ❖ 一片冬麦，(那个)一片高粱
- ❖ 十里(哟)荷塘，十里果香
- ❖ 咳!我们世世代代在这田野上生活
- ❖ 为她富裕为她兴旺
- ❖ 我们的理想在希望的田野上
- ❖ 禾苗在农民的汗水里抽穗
- ❖ 牛羊在牧人的笛声中成长……





- 1、了解我国农业的概况和重要性。
- 2、了解农业在国民经济发展中的地位。
- 3、能够运用资料并联系实际，说明我国农业在地区分布上的差异。



一、农业及其重要性 (P90---92)

1、农业的概念

利用**生物**的生长发育规律，通过**人工培育**来获得产品的各部门统称为农业。

农业的劳动对象是**生物**；

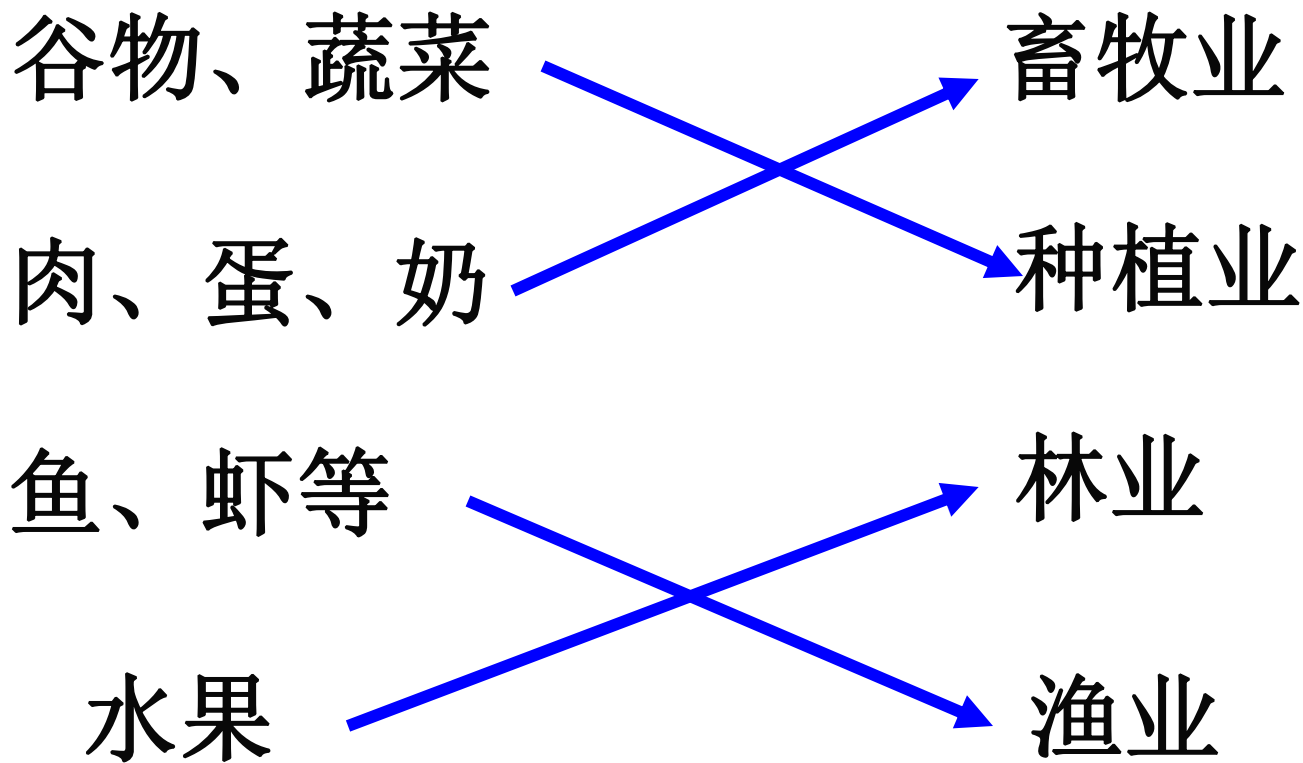
获得的劳动产品还是**生物**本身。

2、农业的类型 (部门)

种植业
林业
畜牧业
渔业



判断：以下农业属于哪个部门？



大农业
(广义)

小农业(狭义)

种植业（什么是种植业？）



根据课本资料，结合实际，从生产和生活两个方面举例说明农业的重要性。

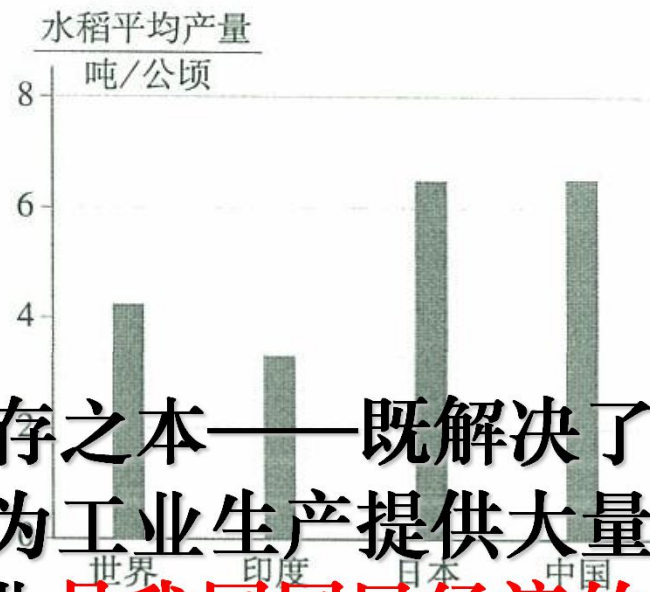
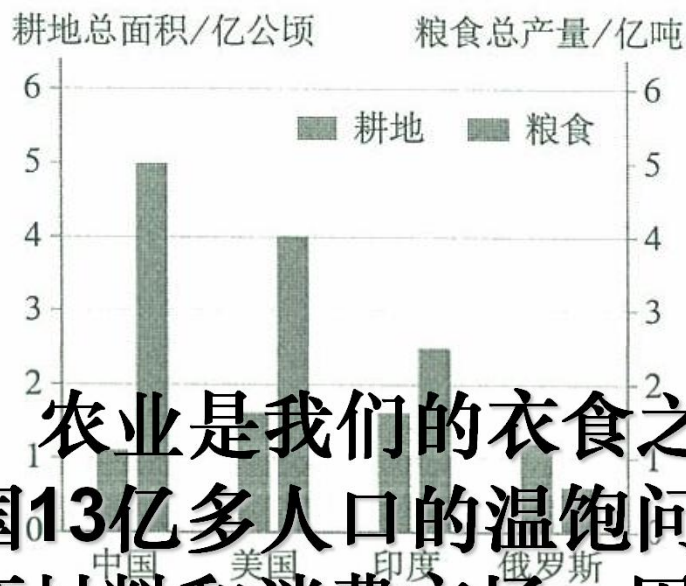
生产方面：

生活方面：



活动一

13亿中国人一天消费粮食 5200000000 千克，即52万吨。一天要吃掉130万头猪。中国用约占世界10%的耕地，养活了地球上约20%的人口，这是一个奇迹。



农业是我们的衣食之源、生存之本——既解决了我国13亿多人口的温饱问题，又为工业生产提供大量的原材料和消费市场，因此，农业是我国国民经济的基础。

图 4.3 四国耕地面积和粮食总产量（2010年）

图 4.9 世界、部分国家单位面积水稻产量（2010年）



读图分析，规律总结



1. 我国农业差异最明显的地区是哪两部分？它们的界线在哪里？



读图分析，规律总结



2、我国的四大牧场是哪几个？



读图分析，规律总结



3、东西两部分有哪些农业类型？
造成这种差异的主要原因是什么？



读图分析，规律总结



4、想一想，在降水稀少的西部地区，种植业分布在哪些地区？



读图分析，规律总结



5、林业集中分布在我国哪些地区？
哪些属于天然林？哪些属于人工林？

读图分析，规律总结



6、我国哪个地区的淡水渔业最发达？
我国海洋渔业基地在哪儿？

二、我国农业的地区分布

南北差异明显

东西差异明显

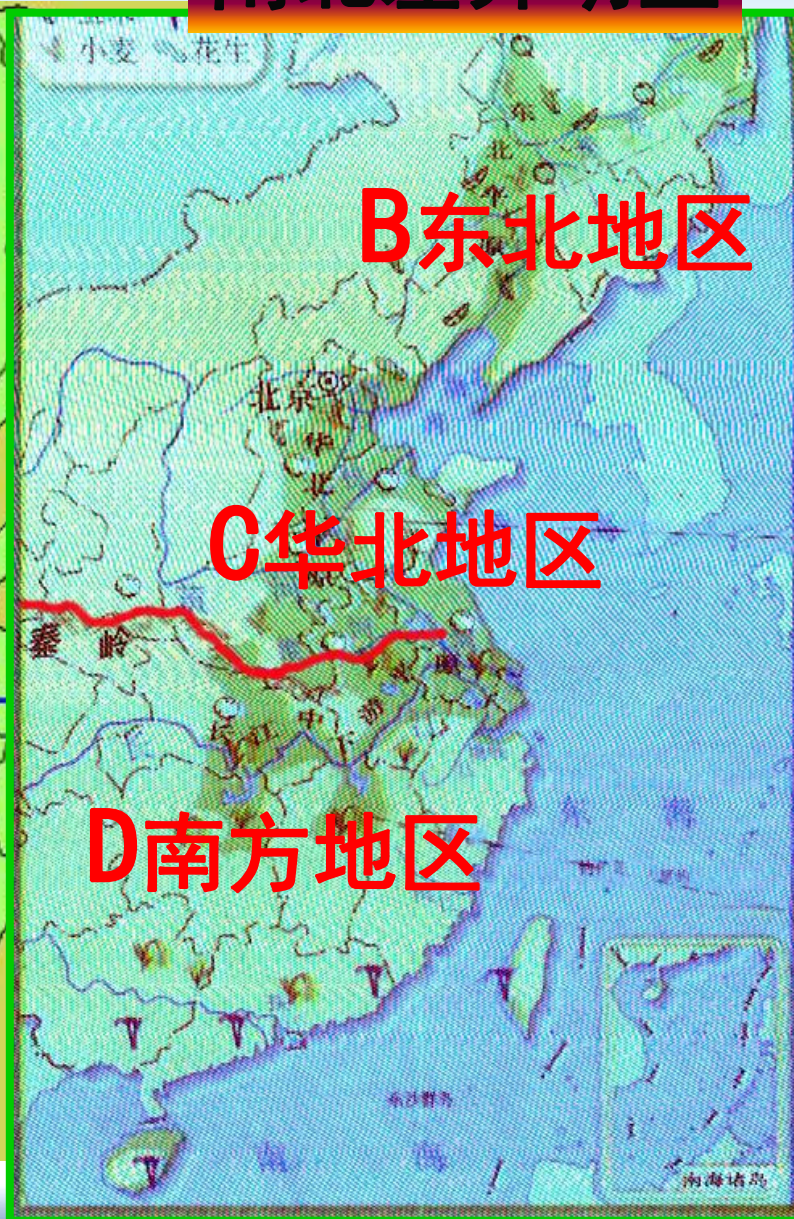


A 西部地区

B 东北地区

C 华北地区

D 南方地区



活动：合作探究

我来做导游，秀秀我们的农业



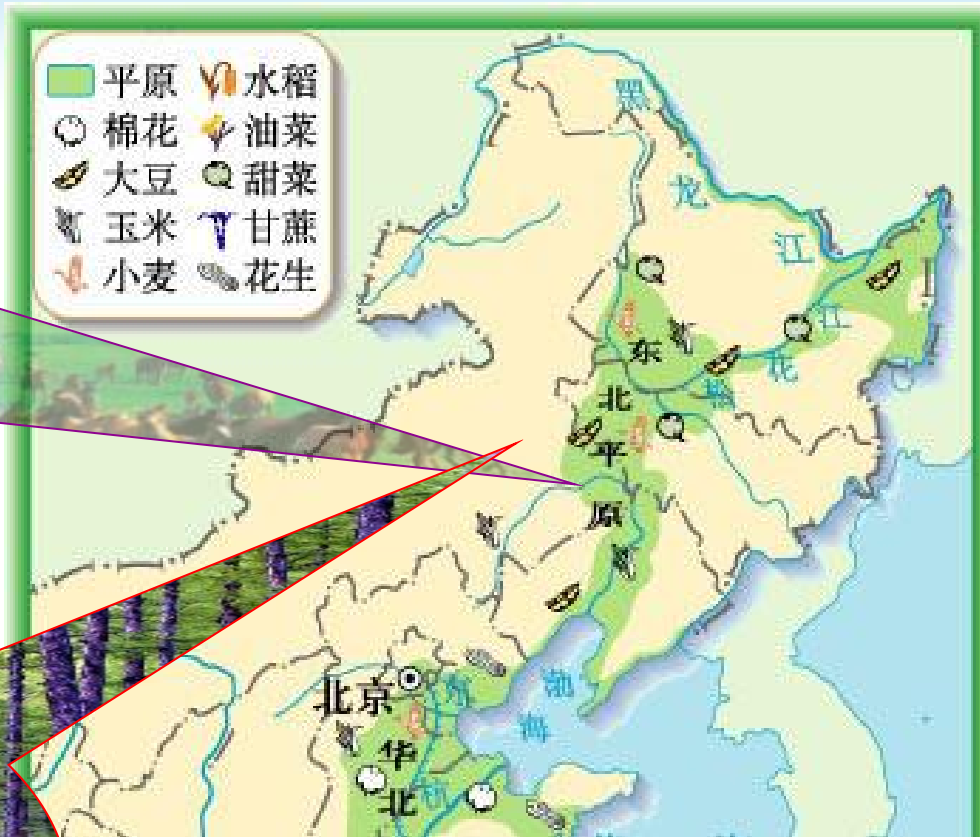
提示：可从农业部门、耕地类型、农作物、作物收获次数等方面介绍

农业的地区分布（西部地区）



农业的地区分布（东北地区）

种植业为主。多为旱地，种植小麦、玉米、大豆、甜菜等。一年收获一次。



东北天然林区



农业的地区分布（华北地区）

种植业为主。多为旱地，种植小麦、玉米、花生、棉花等。一年收获两次或两年三次。



农业的地区分布（南方地区）

0 600 千米

以种植业
为主、林
业、渔业

耕地以水田为主，种
植水稻，也种棉花、
油菜、甘蔗等，一年
可收获两次或三次。

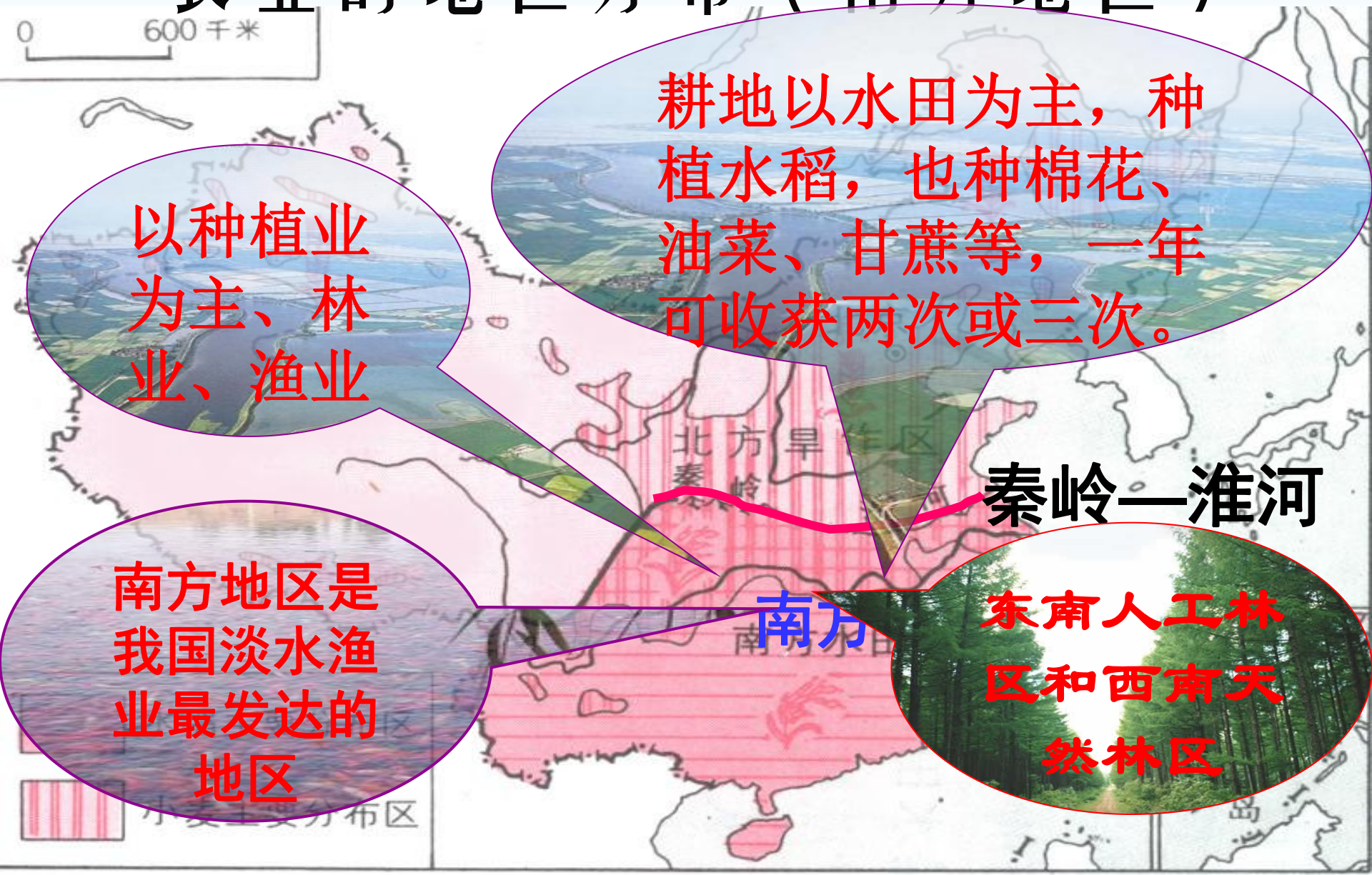
秦岭—淮河

南方地区是
我国淡水渔
业最发达的
地区

东南人工林
区和西南天
然林区

小麦主要分布区

南方



我国农业的分布——小试身手



东部呈片状分布，西部呈条带状分布，西部农产品主产区主要分布在河流沿岸，有冰雪融水的山麓地带和绿洲。

1. 我国东西部地区的农产品主要产区分布形状有什么不同，为什么会产生这样的差异？



我国农业的分布——小试身手



2. 我国东部地区南北方的主要农产品有哪些不同？试举例说明这样规划依据的自然条件。



谈一下你的收获

反馈练习

1. 采购员要去采购甜菜和马铃薯，应该去（ A ）

- A 松嫩平原 B 黄土高原
C 四川盆地 D 成都平原

2. 我们日常生活中的粮食，蔬菜来源于（ A ）

- A 种植业 B 林业 C 牧业 D 渔业

3. 下列地区中不利于种植业发展的是（ D ）

- A 东北平原 B 华北平原
C 长江中下游平原 D 塔里木盆地

4. 我国东北平原的耕作制度是（ C ）

- A 一年三熟 B 一年两熟
C 一年一熟 D 两年三熟



5 下列四种农作物中，分布在华北平原的是
(C)

A 甘蔗 B 油菜 C 花生 D 甜菜

6 我国南方与北方的耕作制度和种植的农作物有明显差别的最主要原因是 (A)

A 气候条件 B 地形条件
C 土壤条件 D 水源条件




走进生活，寻找“地理”

学习地理，服务生活。



中国的林业



- ▲ ◆ ◆ 主要林区
 - "三北" 防护林界
 - 平原农田防护林
 - 沿海防护林界
 - 长江中上游防护林
- 0 360 720 千米



中国的渔业

南方地区是我国淡水渔业最发达的地区

沿海地区是我国海洋渔业基地

