

隋唐时期：繁荣与开放的时代

第2课 从“贞观之治”到 “开元盛世”

导入新课

新课探究

课堂小结

随堂训练



《虢国夫人游春图》

《虢国夫人游春图》的价值，不仅在于它的高超技巧，以及它对真实历史人物和真实风俗图景的生动描绘，更在于它从特定角度显示了一个伟大时代的风貌。

学习目标

- 1.通过本课学习，使学生了解唐朝建立、贞观之治、开元盛世基本史实；**
- 2.通过分析唐太宗、唐玄宗的执政措施和政绩，培养学生运用历史唯物主义观点正确评价历史人物的能力。**



一：唐朝的建立和贞观之治

1.唐朝的建立

时间

618年

都城

长安

建立者


李渊




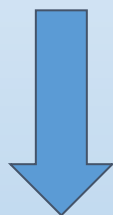
李渊

2. 李世民登基


皇帝（李渊）



太子（李建成）



秦王（李世民）



齐王（李元吉）

唐太宗—李世民

玄武门之变

唐太宗统治的**贞观年间** (627—649年)，政治比较清明，经济有所发展，国力逐步强盛，历史上称当时的统治为“**贞观之治**”。



3.贞观之治的出现

“舟所以比人君，水所以比黎庶。
水能载舟，亦能覆舟。”

——《贞观政要》

读材料和教材，合作探究，在唐太宗时期，出现贞观之治的原因。

(1) 主观原因：

他吸取隋朝速亡的历史教训，因此，他勤于政事，虚心纳谏，从善如流。

(2) 客观原因（措施）：

①任用贤能。

读材料：

唐太宗认为“致安之本，惟在得人”，所以他很重视选官和用人。他求贤若渴，为了改善吏治，争取各地主集团的支持，他选拔任用了许多有才能的人担任中央要职。这些人出身不同，代表了各种地主势力，也有出身低微的寒门人士。

你知道唐太宗身边有哪些能臣吗？

长孙无忌、房玄龄、杜如晦、魏征、李靖、高士廉、尉迟敬德等。



魏征



“以铜为镜，可以正衣冠；以古为镜，
可以知兴替；以人为镜，可以明得
失。”

——唐太宗

②政治方面。进一步完善三省六部制；制定法律，减省刑罚；增加科举考试科目，鼓励士人报考，进士科逐渐成为最重要的科目；严格考查各级官吏的政绩。

③经济方面。减轻人民的劳役负担，鼓励发展农业生产。

④边疆管理。唐太宗时期先后击败东、西突厥，加强了对西域的统治。

4.读史料：

材料一：“（贞观）初期，茫茫千里，人烟断绝，鸡犬不闻，道路萧条。”

材料二：昔者唐之太宗，以神武之略起定祸乱，以王天下，威加四海矣。然所谓固天下之势，以遗诸子孙者，盖未立也。于是乎藉兵于府，置将于卫，据关而临制之。处兵于府，则将无内专之权；处将于卫，则兵无外擅之患。然犹以为未也，乃大诛四夷之侵侮者：破突厥，夷吐浑，平高昌，灭焉耆，皆俘其王，亲驾辽左而残其国。凡此者，非以黩武也，皆所以立权而固天下之势者也。”

5.根据材料讨论唐太宗采取这些措施的结果如何？

政治比较清明，经济得到进一步发展，国力增强，文教昌盛，历史上称之为“贞观之治”。



贞观之治局面形成原因

唐太宗

- 知人善任、虚怀纳谏
- 完善制度、减轻刑罚
- 重视生产、轻徭薄赋
- 击败突厥、巩固西域

政治清明
经济发展
社会安定

贞观之治

二：女皇帝武则天



说说你印象中的武则天吧

武则天成为皇后以后，与唐高宗共掌朝政。高宗去世后，武则天相继废掉两个已经做了皇帝的儿子，自己取而代之，改国号为周。她是中国历史上唯一的女皇帝。



“无字碑”

思考

武则天的主要政绩有哪些？

- 1、发展科举，选拔人才**
- 2、减轻人民负担，重视发展农业生产**
- 3、为后来“开元盛世”奠定了基础**

三：开元盛世



唐太宗

贞观之治



武则天

政启开元，治宏贞观



唐玄宗

开元盛世



唐玄宗

(685~762 年)

唐玄宗名李隆基，
又称唐明皇，

712 ~ 756年在位。

他统治前期年号：开

元

后期

年号：天宝

1.读史料：

材料一：至（开元）十三年封泰山，米斗至十三文，青齐谷斗至五文。自后天下无贵物，两京米斗不至二十文，面三十二文，绢一匹二百一十文。东至宋（今河南商丘南）汴（今河南开封），西至岐州（今陕西凤翔），夹路列店肆待客，酒馔丰溢。每店皆有驴赁客乘，倏忽数十里，谓之驿驴。南诣荆襄（今湖北江陵、襄樊），北至太原、范阳（今北京），西至蜀川（今四川成都）、凉府（即凉州，今甘肃武威），皆有店肆，以工商旅，远适数千里，不持寸刃。”可见当时粮食布帛产量丰富，物价低廉，商业繁茂，道路畅通，行旅安全。到开元二十年，全国有民户七百八十六万一千二百三十六（最多时逾千万），人口四千五百四十三万一千二百六十五，比之唐初户口增加一倍半以上。

材料二：唐玄宗时期全国耕地面积**6.6**亿亩。唐朝的版图，比之于汉代，有新的拓展；大运河把黄河流域与长江流域更密切地联系在一起，促进了全国经济的增长。史称：“开元、天宝之际，耕者益力，高山绝壑，耒耜亦满”。根据现有史料推算，当时全国实际耕地面积约八百五十万顷，折合今亩达**6.6**亿亩（当下的中国为**18**亿亩），人均占有达**9**亩多。远远超过中国今日的平均数（**1.4**亩）。

2.根据材料讨论开元盛世的表现

物美价廉；
商业繁盛；
人口增长；
耕地面积
扩大等。



盛唐的景象

3.学生分组讨论唐玄宗采取了那些政策措施？

(1) 主要措施：稳定政局，励精图治，重用贤能。




唐三彩

(2) 具体措施:

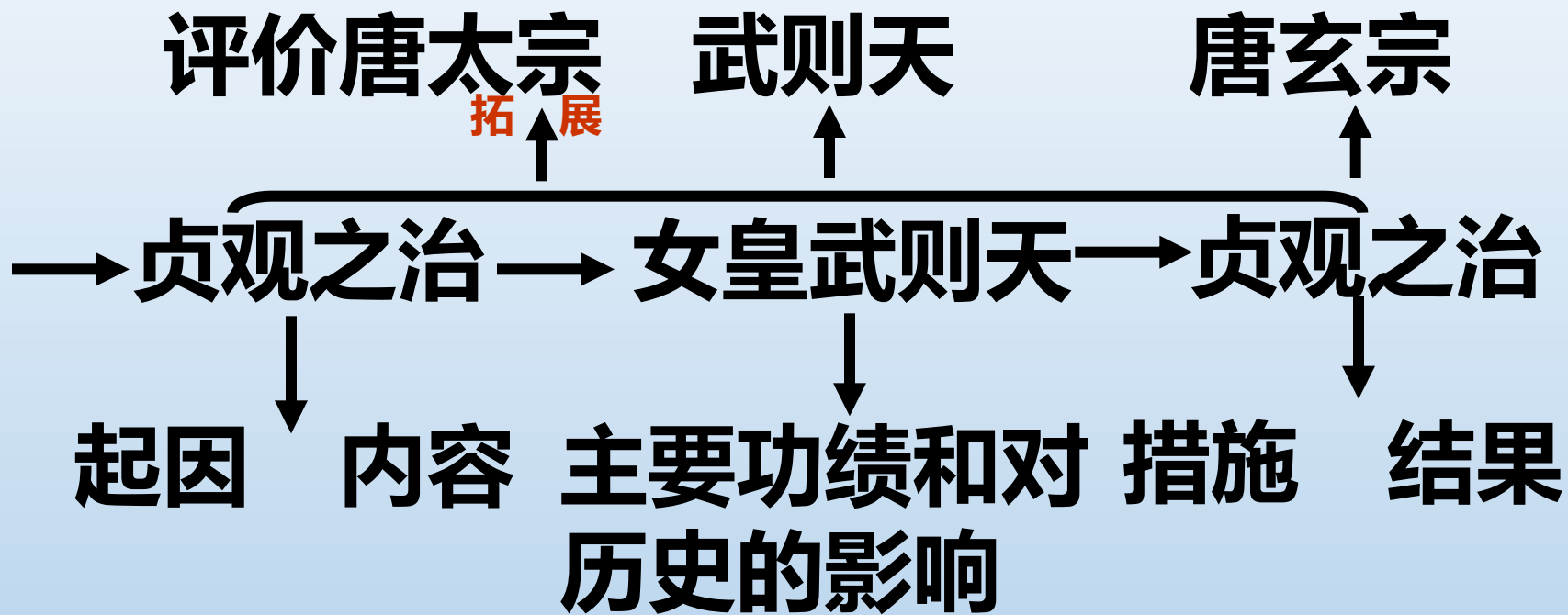
- ②政治方面。整顿吏治，裁减冗员。
- ③经济方面。发展经济，改革税制。
- ④文化方面。注重文教，编修经籍。



(3) 结果：当时政治稳定，经济繁荣，国库充盈，民众生活安定，唐朝的国力达到前所未有的强大，进入了鼎盛时期，历史上称为“开元盛世”。



从贞观之治到开元盛世



随堂训练

- 1、唐朝建立于：（ **A** ）
A. 618年 B. 626年 C. 581年 D. 589年
- 2、历史上把唐太宗统治时期称为（ **A** ）：
A. 贞观之治 B. 开元盛世
C. 开皇之治 D. 光武中兴
- 3、人们基本上肯定武则天的统治，主要是因为：（ **D** ）
A. 她是我国历史惟一女皇帝
B. 她替多病的高宗处理朝政
C. 她能重用一些有才能的人
D. 她统治期间社会经济继续发展

4. 唐朝的全盛时期是（ **C** ）

- A. 唐太宗时期
- B. 武则天时期
- C. 唐玄宗前期
- D. 唐玄宗后期

5. 下列人物不是唐玄宗时名相的是（ **B** ）

- A. 张九龄
- B. 狄仁杰
- C. 姚崇
- D. 宋璟

6. 下列说法错误的一项是（ **D** ）

- A. 武则天是我国唯一的女皇帝
- B. 武则天的统治有贞观遗风
- C. 唐都长安是著名的国际大都市
- D. 唐朝出现了曲辕犁和翻车