




第2课时 认识直角


1. 在  里填上“>”“<”或“=”。


$72 - 30$  40

55  $62 - 4$

$37 + 18$  52

$47 + 25$  70

$26 + 32 - 9$  54

66  $48 + 20 - 17$

$58 + 16 - 27$  $85 - 21 - 19$

$72 - 29 - 14$  $61 - 18 + 7$

$25 + 26 + 17$  $62 - 7 + 13$

$52 - 15 - 7$  $64 - 35 + 12$

$27 + 17 + 15$  $86 - 58 + 37$

$66 + 28 - 15$  $92 - 50 + 37$

2. 竖式计算。

$79 - 26 - 11 =$

$53 + 44 - 42 =$

$64 - (79 - 41) =$

$44 + 16 - 18 =$

$46 - 14 + 9 =$

$84 - 20 - 33 =$

3. (教材 P44, T6 高仿题) 下面图形中哪些是直角? 是的在括号里画“□”。



()



()



()

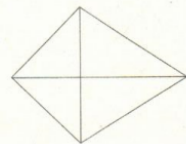


()

4. 数一数, 图形中各有几个直角?



() 个直角



() 个直角