



第 5 课时 练习课 [教材 P<sub>16~18</sub>]



 **开心!** **一练**

一

450
530
380

 $+ 290 =$ 


560
900
480

 $- 380 =$ 




买一台微波炉和一个电饭煲一共需要多少元?

三







这本故事书一共有328页，我已经看了132页，大约还有（ ）页没看。

四 你还能提出其他数学问题并解答吗？

今天大约卖出（ ）千克 .



原有 	433千克
卖出 	178千克

上午卖出 	382克
下午卖出 	419千克



快乐提升

五 小红家、小青家和学校都在一条马路上，小红每天上学要走 360 米，小青每天上学要走 250 米，小红家和小青家相距多少米？



名师点睛



秒算

$56 + 24 =$

$35 - 16 =$

$28 + 37 =$

$89 - 41 =$

$430 + 560 =$

$960 - 470 =$

$670 - 280 =$

$700 - 310 =$