




③ 测量

第 1 课时 毫米的认识 [教材 P_{21~22}]

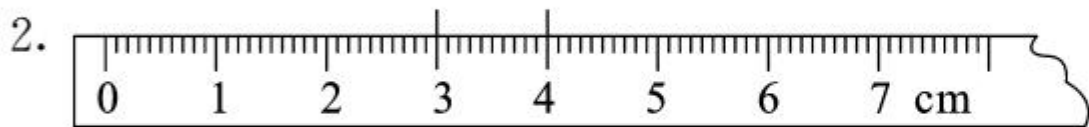




开心! 一练

一 填一填。

1. 量比较短的物体的长度或者要求量得比较精确时,可以用()作单位。



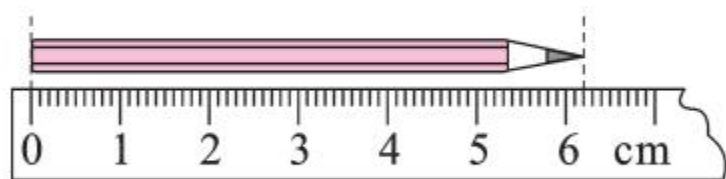
直尺上从“3”到“4”之间的长度是()厘米,它又分成()个长度相同的小格,每个小格是()毫米,所以1厘米=()毫米。

3. 1枚一分硬币的厚度大约是1(),6枚一分硬币摞在一起的厚度大约是()。

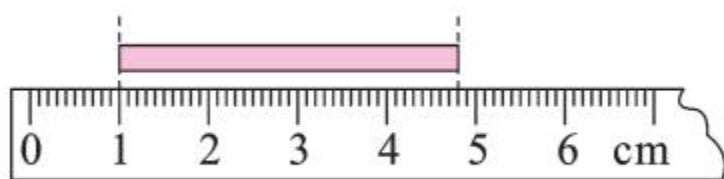

4. 一支铅笔长12()8()。



二 量一量,填一填。

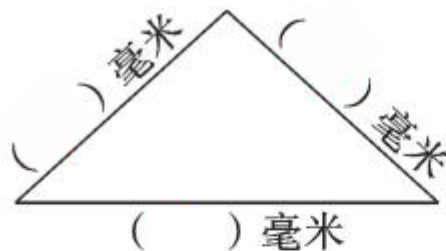


_____ 厘米 _____ 毫米



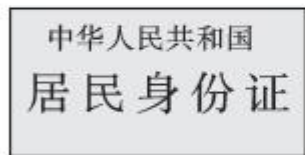
_____ 厘米 _____ 毫米

三 量出每条边的长度。



快乐提升

四 在()里填上合适的长度单位。



1 张身份证的厚度
大约是 1()。

小红身高约
110()。

1 枚 1 元硬币的厚度
大约是 2()。

五 画一画。

1. 画一条长 2 厘米 7 毫米的线段。

2. 画一条长 44 毫米的线段。



秒算

$86 - 30 =$

$34 + 23 =$

$42 - 13 =$

$70 - 24 =$

$28 + 36 =$

$120 - 50 =$

$170 - 80 =$

$180 + 190 =$