



第 6 课时 解决问题 [教材 P₄₃]





开心! 一练

一 下面三种球各买一个大约应该准备多少钱?



185元



238元



136元

二 爸爸要给丁丁买这三种商品。

1. 收银员应收多少元钱?

2. 爸爸应准备多少钱?



266元

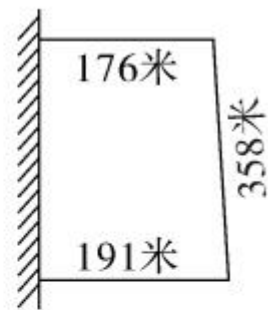




298元



138元

- 三 如图所示,渔业养殖场在海边用渔网圈出一块水域作为珍珠养殖区,准备多长的渔网就够了?

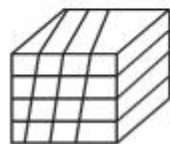


- 四 妈妈在网上购物,一件  278 元,一条  195 元,妈妈的支付宝里有 400 元,估一估够支付吗? 算一算相差多少钱?



快乐提升

五 把这些货物全部运走,可以怎样运? 需要运几次? 写出你的方案。



710千克



560千克



288千克



132千克



397千克



350千克



440千克

