

7 长方形和正方形

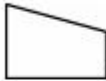
第1课时 认识四边形 [教材 P₇₉]




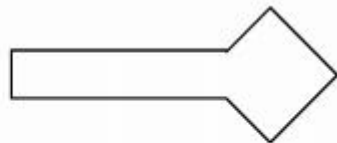



开心! 一练

一 填一填。

1.  是一个()边形,有()条边,有()个角。
2. 生活中,()和()的表面都是四边形。
3. 长方形和正方形都是()形,都有4条(),4个()。

二 把你认为是四边形的图形涂上颜色。




三 关于四边形,下面说得对吗? 对的画“√”,错的画“×”。

1.  都是四边形。 ()
2. 四边形都有四个角。 ()
3. 有四条边的图形是四边形。 ()
4. 长方形和正方形都是四边形。 ()



快乐提升

四 请你在点子图中画出两个不同形状的四边形。



五 连一条由四边形组成的路线,让小朋友回家。

