




第 3 课时 认识周长 [教材 P<sub>83</sub>]





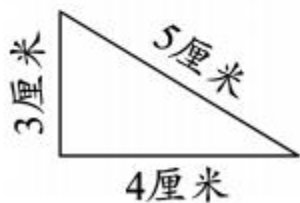
# 开心! 一练

一 请用彩笔描出这些图形的边线。

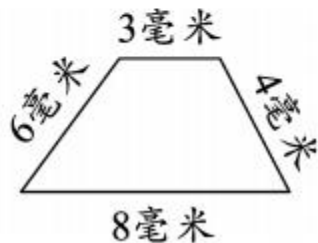


哦，我明白了：周长是指\_\_\_\_\_。

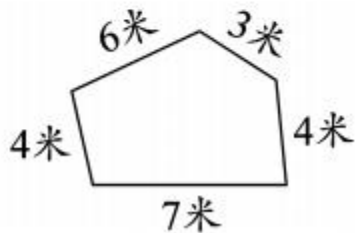
二 算一算，下面各图形的周长是多少？



周长是( )

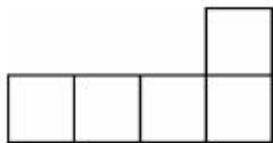


周长是( )

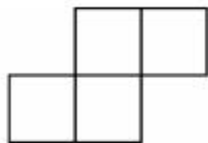


周长是( )

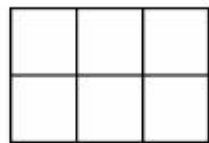
三 用边长为 1 厘米的小正方形,拼成如下的图形,它们的周长是多少?



( )厘米



( )厘米



( )厘米

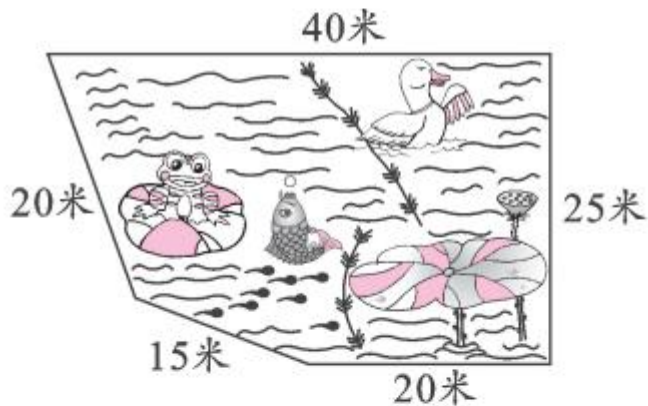



## 快乐!提升

四



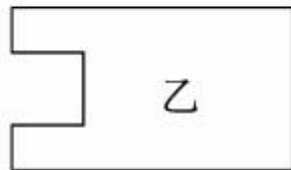
如果用140米的栅栏,能把这个池塘围一圈吗?





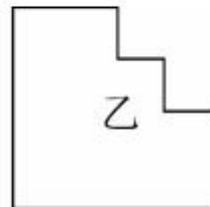
五 比较下面每组图形的周长。

1.



甲的周长○乙的周长

2.



甲的周长○乙的周长

