




⑧ 分数的初步认识

第 1 课时 认识几分之一 [教材 P₉₀]





开心 一练

一 分一分,填一填。



我把一块蛋糕平均分成 3 份,每份是它的()分之一,写作()。

我把长方形纸平均分成了 ()份,涂色的部分是它的 (),读作()。



二 用分数表示图中的阴影部分。



()



()

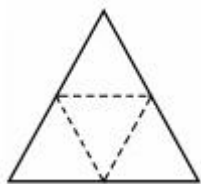


()

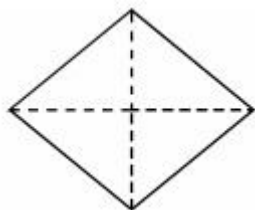


()

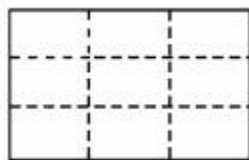
三 看分数,涂颜色。



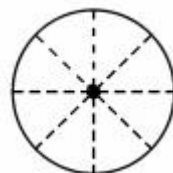
$\frac{1}{4}$



$\frac{1}{4}$

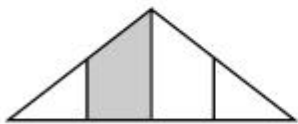


$\frac{1}{9}$

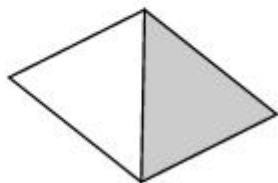


$\frac{1}{8}$

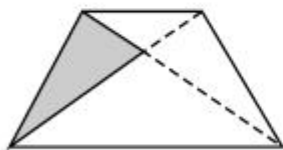
四 下面各图的阴影部分用分数表示的对吗?(对的画“√”,错的画“×”)



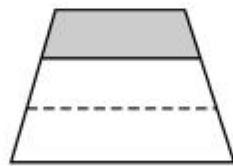
$\frac{1}{4}$ ()



$\frac{1}{2}$ ()



$\frac{1}{4}$ ()



$\frac{1}{3}$ ()



五 □是一个图形的 $\frac{1}{6}$,这个图形可能是什么形状?在方格纸上画一画。

