

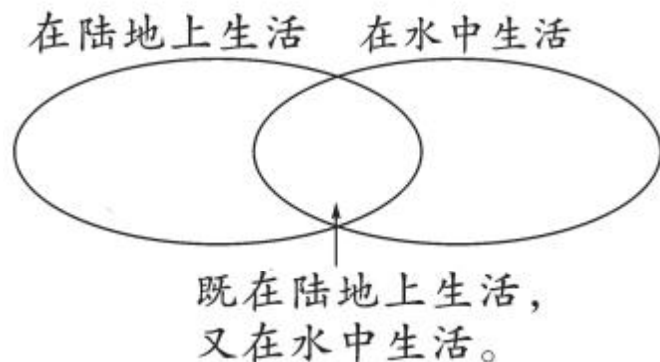
⑨ 数学广角——集合

第 1 课时 集合问题 [教材 P₁₀₄]



开心! 一练

一 把下面动物的序号填在合适的位置上。

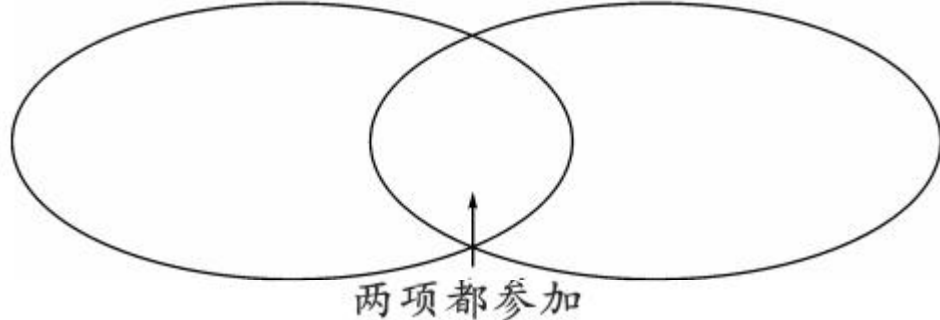


二 三(2)班参加航模、器乐课外小组的学生名单:

航模	刘明	张丽	杨松	赵晓	康东	王志	王雄		
器乐	李华	朱东	王林	刘华	王涛	李强	张丽	周强	刘明

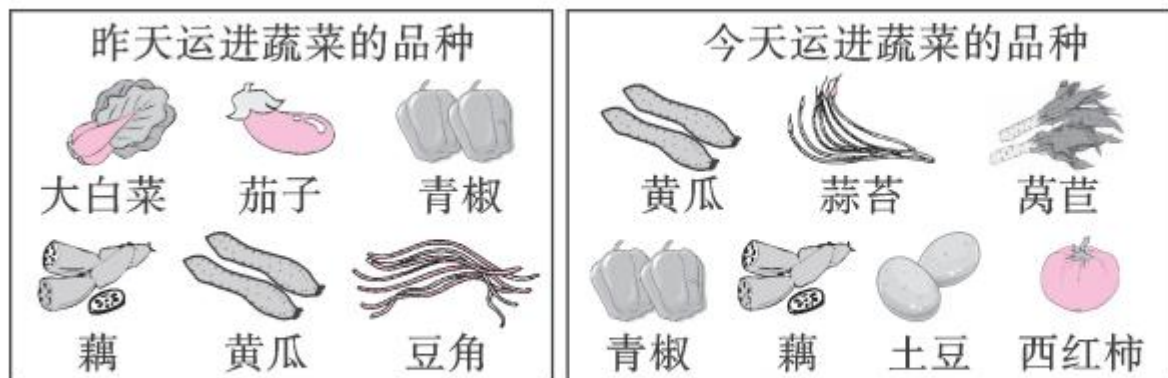
航模小组

器乐小组



- 完成左图。
- 既参加航模小组又参加器乐小组的有()人。
- 参加航模小组或器乐小组的一共有()人。

三 下面是一佳鲜蔬菜店两天的进货情况。



1. 一佳鲜蔬菜店两天一共运进了多少种蔬菜？

2. 你还能提出其他的数学问题并解答吗？

四 学校举行象棋比赛，甲、乙两个小组各有 18 人，每组两人一队进行比赛，负者淘汰，胜者进入下一轮，最后决出各组第一名进行决赛。两个小组一共要进行多少场比赛？