




# 10 总复习

第1课时 时、分、秒 测量





## 开心! 一练

一 在括号里填上合适的单位。

1. 一个苹果重 160( )。

2. 一辆货车的载重量为 5( )。

3. 呼吸一次用的时间是 3( )。

4. 一本作业本厚 2( )。

5. 课桌宽 6( )。

6. 北京到广州的铁路长 1380( )。

二 1 时 = ( ) 分      3 千米 = ( ) 米      60 厘米 = ( ) 分米

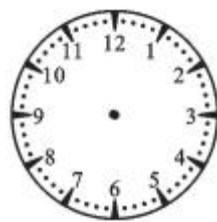
120 分 = ( ) 时      5 分米 = ( ) 厘米      5 千克 = ( ) 克

4 分 = ( ) 秒      40 毫米 = ( ) 厘米      4 吨 = ( ) 千克

三 在右图上画出列车的启动时间。



再过25分钟，开往北京的列车就要启动了。



## 快乐提升

四 小明步行去外公家，途中要走5千米，他上午10时出发，每小时走3000米，小明能在中午12时之前到达外公家吗？

注意统一单位哟！



**五** 【教材 P<sub>111</sub> 第 4 题变式】小明家到文化宫有 7000 米，到学校有 5000 米。文化宫和超市之间相距 4000 米。



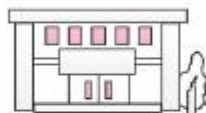
小明家



超市



学校



文化宫

1. 学校和文化宫的距离是(            )米,超市到学校的距离是(            )米。
2. 小明家到超市的距离是(            )米,合(            )千米。

