



第 2 课时 万以内的加、减法





## 开心！一练

一 用竖式计算，带“▲”的要验算。

$$169 + 75$$

$$246 + 357$$





$$\blacktriangle 960 - 235$$

$$710 - 36$$

$$800 - 59$$

$$\blacktriangle 417 + 239$$

## 二 水果批发市场。

				
原有	627 千克	564 千克	_____ 千克	726 千克
卖出	448 千克	_____ 千克	346 千克	517 千克
还剩	_____ 千克	318 千克	454 千克	_____ 千克



## 快乐提升

- 三 图书角的图书借出了 487 本,借出的比剩下的少 129 本,剩下多少本书?



四 动物园上午有游客 704 人,中午有 256 人离开,下午又来了 447 人。

1. 这时园内有多少游客?

2. 全天园内来了多少游客?

五 在  里填上合适的数。

$$\begin{array}{r} 7 \quad \square \quad 0 \\ - \quad \square \quad 5 \quad \square \\ \hline 1 \quad 7 \quad 6 \end{array}$$

$$\begin{array}{r} 6 \quad \square \quad 8 \\ + \quad 3 \quad 6 \quad \square \\ \hline \square \quad \square \quad 4 \quad 3 \end{array}$$

$$\begin{array}{r} \square \quad 0 \quad \square \quad 2 \\ - \quad \square \quad 9 \quad \square \\ \hline \quad \quad 9 \quad 7 \end{array}$$