



第2课时 认识米和用米量[教材 P₄]

开心！一练

一 我会填。

- 量比较长的物体，通常用()作单位。米可以用“()”表示。
 - 在量铅笔的长度时，我会用()作单位。在量操场跑道长度时，我会用()作单位。
 - 1 米 = () 厘米 6 米 = () 厘米 400 厘米 = () 米
 - 在○里填上“>”“<”或“=”。
- 13 米 ○ 8 米 5 米 ○ 5 厘米 200 厘米 ○ 2 米 99 厘米 ○ 1 米

二 量一量，填一填。



大约()拃长 1 米



大约()本书长 1 米

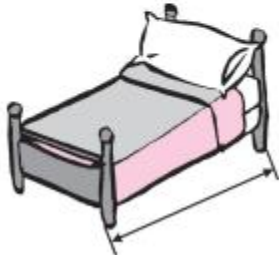


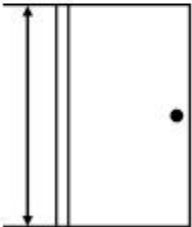


()米()厘米



快乐提升

三 选择合适的答案,在后面的 里画“☺”。

			
比1米长 <input checked="" type="checkbox"/>	比1米长 <input type="checkbox"/>	比1米高 <input type="checkbox"/>	比1米高 <input checked="" type="checkbox"/>
比1米短 <input type="checkbox"/>	比1米短 <input checked="" type="checkbox"/>	比1米矮 <input checked="" type="checkbox"/>	比1米矮 <input type="checkbox"/>

四 把下面各数按从小到大的顺序排列。

4 米

40 厘米

4 米 40 厘米

4 厘米

40 米

(4 厘米) < (40 厘米) < (4 米) < (4 米 40 厘米) < (40 米)