

第3课时 认识线段和量画线段 [教材 P<sub>5~6</sub>]

一 (河北廊坊市) 哪些是线段? 在下面打“√”。



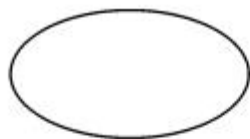
( )



( )



( )

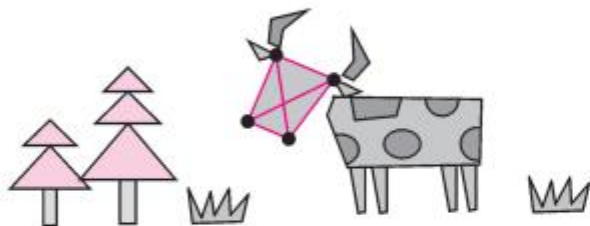


( )



( )

二 下图中, 连接每两个点画线段, 一共能画出几条线段? 看看画出的是什么?



一共画出了( )条线段, 画的是( )。

三 我会画。

1. 画一条长 4 厘米的线段。

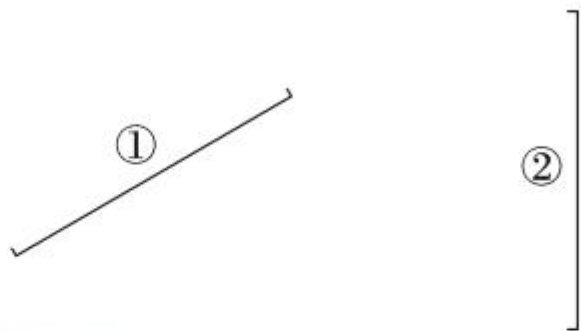
2. 量一量, 下面的线段长( )厘米, 请你画出一条与它同样长的线段。





## 快乐提升

四 看看哪条线段长,再量一量。



五 量一量,画一画。

在  的左边 3 厘米处画一颗 , 在  的右边 4 厘米处画一个 .

