



第 3 课时 进位加 [教材 P<sub>14</sub>]



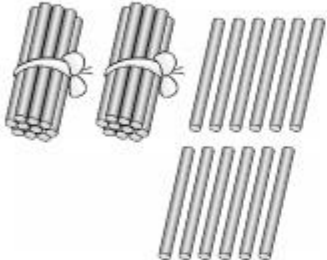


# 开心！一练

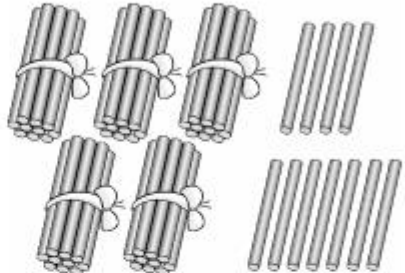


课时精讲

## 一 摆一摆,算一算。

1.  
$$\begin{array}{r} 26 \\ + 6 \\ \hline ( \quad ) \end{array}$$

个位上 6 加 6 得( ), 向十位进( ), 个位写( )。

2.  
$$\begin{array}{r} 34 \\ + 27 \\ \hline ( \quad ) \end{array}$$

个位上( )加( )得( ), 向十位进( ), 个位写( )。

## 二 笔算我最棒。

$56 + 9 =$

$29 + 17 =$

$36 + 47 =$

相同数位对齐,从个位加起,个位满( )向( )位进( )。





三 下面的计算对吗？对的打“√”，错的打“×”，并改正。

$$\begin{array}{r} 24 \\ + 416 \\ \hline 7 \end{array}$$


(      )

$$\begin{array}{r} 28 \\ + 34 \\ \hline 52 \end{array}$$

(      )

$$\begin{array}{r} 37 \\ + 5 \\ \hline 87 \end{array}$$

(      )





## 快乐提升

四 算出每张卡片上两个数的和。

65
26

52
28

7
36

54
7

53
34

46
24

\_\_\_\_\_

五 依依和淘淘的绘画作品在网上参加点赞活动。他们俩人的作品一共获得了多少个赞？



依依

我获得了38个赞。



淘淘

我获得了29个赞。



## 秒算

$7+8=$

$6+9=$

$19+4=$

$21+7=$

$32+20=$

$38-8=$

$45-10=$

$56-23=$