



第 11 课时 加减混合 [教材 P₂₈]





开心！一练

一 列竖式计算。

$$37 + 26 - 35 =$$

$$82 - (47 + 16) =$$

$$35 + (62 - 16) =$$


二 算一算，填一填。

$$\begin{array}{r} 27 \\ + 38 \\ \hline (\quad) \\ - 16 \\ \hline (\quad) \end{array}$$

$$\begin{array}{r} 62 \\ - 54 \\ \hline (\quad) \\ + 15 \\ \hline (\quad) \end{array}$$

$$\begin{array}{r} 26 \\ + 27 \\ \hline (\quad) \\ - 34 \\ \hline (\quad) \end{array}$$

$$\begin{array}{r} 95 \\ - 40 \\ \hline (\quad) \\ + 26 \\ \hline (\quad) \end{array}$$



三 下面的计算对吗？把不对的改正过来。

$$73 - (16 + 29) = 32$$


$$\begin{array}{r} 16 \\ + 29 \\ \hline 45 \end{array} \quad \begin{array}{r} 73 \\ - 45 \\ \hline 32 \end{array}$$

()

$$25 + (48 - 19) = 52$$

$$\begin{array}{r} 48 \\ - 19 \\ \hline 27 \\ + 25 \\ \hline 52 \end{array}$$

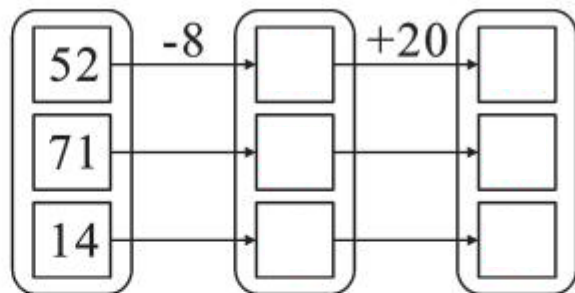
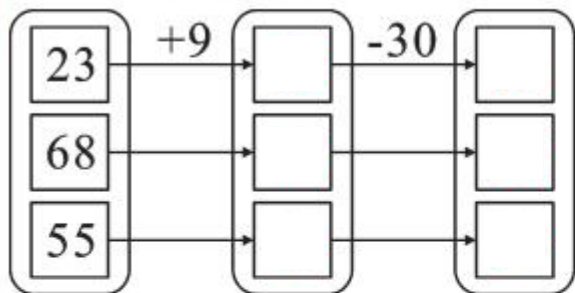
()





快乐提升

四



五 (衡水市武邑县)菜市场原来有 83 个冬瓜,现在有多少个冬瓜?



李叔叔

我运走了
35个。

我运来了
28个。



王叔叔



秒算

25 + 30 =

20 - 9 =

42 - 21 =

92 - 60 =

76 - 7 =

5 + 18 =

92 - 6 =

80 - 24 =