



第 15 课时 整理和复习 [教材 P_{35~37}]





开心! 一练

一 看谁算得都对。

$34 - 6 =$

$17 + 70 =$

$24 + 3 =$

$30 + 28 =$

$45 - 5 =$

$86 - 40 =$

$75 - 8 =$

$50 - 3 =$

$7 + 40 =$

$17 + 6 =$

$47 - 5 =$

$90 - 20 =$

$23 - 8 =$

$46 + 7 =$

$42 + 20 =$

$73 - 30 =$

二 列竖式计算。

$73 - 25 =$

$64 + 29 =$

$78 - 59 =$

$35 + 36 =$

$16 + 15 - 28 =$

$71 - (27 + 25) =$

$32 - (54 - 38) =$

三 在○里填上“>”“<”或“=”。

$84 - 39 \bigcirc 45$

$84 - 4 \bigcirc 88$


$58 - 9 \bigcirc 46$

$75 + 8 \bigcirc 85$


$27 + 4 \bigcirc 32$

$54 + 4 \bigcirc 61$


四 森林医生。(下面的计算对吗? 把不对的改正过来)


$$\begin{array}{r} 95 \\ - 36 \\ \hline 69 \end{array}$$

()


$$\begin{array}{r} 56 \\ + 28 \\ \hline 74 \end{array}$$

()


$$\begin{array}{r} 36 \\ + 28 \\ \hline 64 \end{array}$$

()

五 小白兔一共运回多少根萝卜？小灰兔想要 50 根萝卜，剩下的萝卜够吗？

我第一次运回30根萝卜，
第二次运回23根萝卜。

100根



六 妈妈今年多少岁？奶奶比妈妈也大28岁，奶奶今年多少岁？



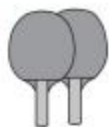
快乐！提升

七



写字大楼高多少米？商业综合楼高多少米？

八



29元



53元







35元



6元

周年庆满60元减10元。

1. 买一副  和一个  要花多少钱?
2. 买一副  和一副 , 能节省 10 元吗?

3. 你还能提出其他数学问题并解答吗?