




③ 角的初步认识

第 1 课时 角的初步认识 [教材 P₃₉]





开心！一练

一 下列物体或图形表面有角吗？如果有，在()里画“√”。



()



()



()



()



()

二 下面图形是角吗？在是角的图形下面画“√”。



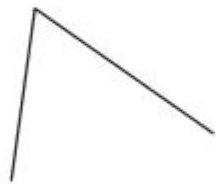
()



()



()



()

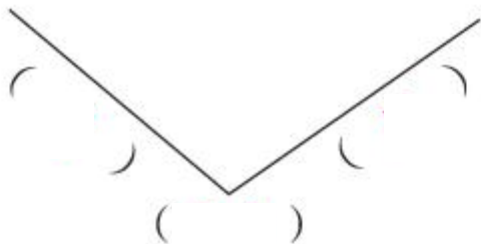
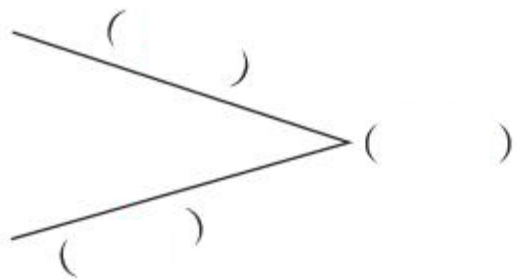


()



快乐!提升


三 写出角各部分的名称。



() 边的角
较大。(填“左”
或“右”)。



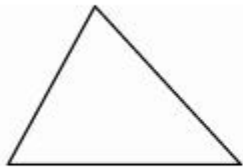
四 数一数,下面图形中各有几个角?



()个角



()个角



()个角



()个角

五 按要求画角。

1. 以 A 点为顶点画一个角。

A•

2. 用下面的线作为角的一条边,画一个角。



秒算

$34+17=$

$82-8=$

$15-6=$

$3+9=$

$29-8=$

$36+63=$

$18+40=$

$31-9=$