



第 2 课时 认识直角 [教材 P₄₀]



一 下面图形是直角的在()里画“√”。



()



()



()



()



()

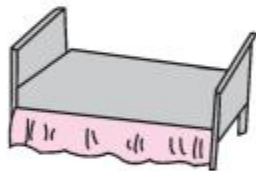
二 下列物体表面有直角的在()里画“√”。



()



()



()



()

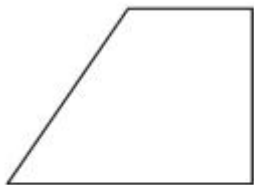


()

三 数一数,下面图形中各有几个直角,并标出来。



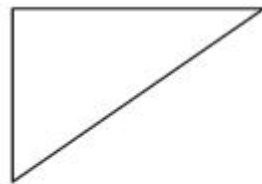
()个



()个



()个



()个



快乐提升

四 辨一辨。(对的画“√”,错的画“×”)

1. 所有的直角都一样大。 ()
2. 红领巾上最大的角是直角。 ()
3. 9时整,钟面上的时针和分针组成的角是直角。 ()
4. 长方形和正方形都有4个直角。 ()

五 按要求在方格纸上画出直角。

1. 用给出的点作顶点画直角。
2. 用给出的点和边画直角。

