



第 4 课时 拼角 [教材 P₄₂]

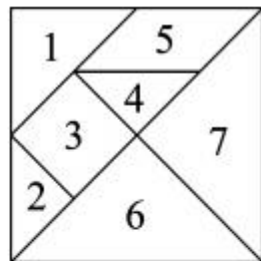


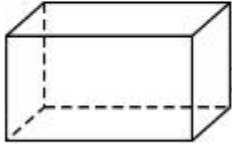
开心！一练

一 填一填。

- 三角尺上有()个角,最大的角是()角,另外两个角是()角。
- (湖北荆州市)用三角尺的直角和锐角拼出的角肯定是()角。

- 右边七巧板中,3号是()形,有()个直角;5号是()形,有()个锐角,()个钝角。三角形有()块,每块都有()个直角,()个锐角。



- 这个长方体有6个面,每个面都是()形,每个面上都有()个角,每个角都是()角。



二 辨一辨。(对的打“√”,错的打“×”)

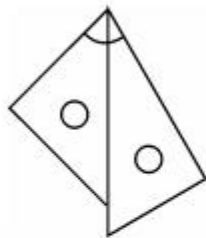
1. 两个锐角拼成的角一定是锐角。 ()
2. 每个三角尺上都有两个锐角。 ()
3. 用两个一样的三角尺不可能拼出锐角。 ()
4. 用两副三角尺能拼出直角。 ()



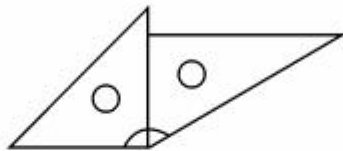


快乐提升

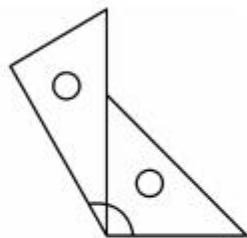
三 下面用两个三角板拼出的角是什么角？



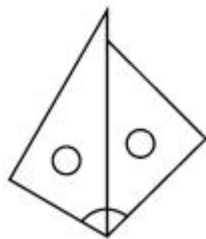
()角



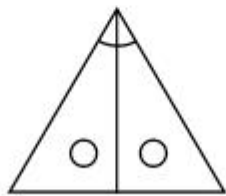
()角



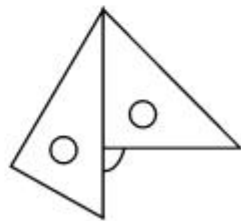
()角



()角



()角



()角