



第 2 课时 练习课 [教材 P_{49~51}]



开心！一练

一 填一填。


1. 4 个 8 相加,和是()。
2. 一个乘数是 3,另一个乘数是 2,积是()。
3. 10 个 4 相加写成乘法算式是(),读作()。
4. 5 和 2 相乘写成乘法算式是(),读作()。


二 下面哪些算式可以直接改写成乘法算式? 请写出来。

- | | |
|----------------------|----------------------|
| 1. $8+8+8+8+8$ _____ | 2. $7+7+7-2$ _____ |
| 3. $2+2+2+3$ _____ | 4. $5+4+3+5+5$ _____ |
| 5. $3+3+3+3$ _____ | 6. $6+6+6-4$ _____ |



三 连一连。



 $2+2+2+2$


 4×2


 5×3


 2×6


2个6相加


 $3+3+3+3+3$


 6×2


5乘3


 $4+4$


乘数是3和5



快乐提升

四 画图表示下面算式的含义。

4×2



5×3



五 你能用加法算出下面乘法算式的得数吗？把得数写在 里。

