



第 6 课时 乘加 乘减 [教材 P₅₈]



一 比一比,算一算。

$4 \times 3 + 4 =$

$4 \times 4 =$

$4 \times 3 - 4 =$

$4 \times 2 =$

$4 \times 4 + 4 =$

$4 \times 5 =$

$2 \times 3 + 3 =$

$3 \times 3 =$

二 我会算。

$3 \times 5 + 6 =$

$2 \times 4 - 1 =$

$3 \times 4 - 3 =$

$2 \times 3 + 7 =$

$5 \times 2 + 9 =$

$5 \times 4 - 3 =$

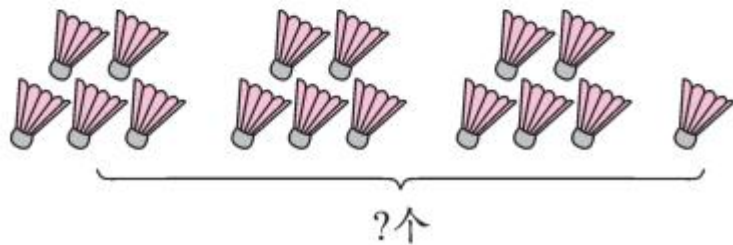
$5 \times 5 - 4 =$

$2 \times 4 + 7 =$

$3 \times 3 + 4 =$


三 看图填写合适的数和运算符号。

1.



$\square \bigcirc \square \bigcirc \square = \square (\text{个})$

2.

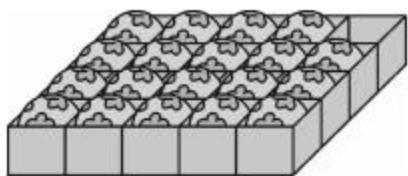


$\square \bigcirc \square \bigcirc \square = \square (\text{个})$



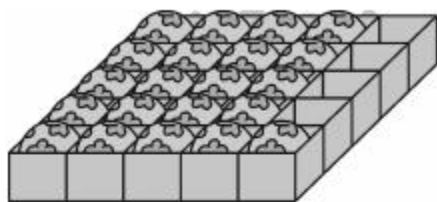
快乐!提升

四 1.



一共有多少个皮球?

2.



一共有多少个皮球?

五 哪个图形中 的个数多? 说说你是怎样比较的。

