



第 2 课时 观察物体(2)[教材 P₆₉]

一 下面是我们学过的立体图形,猜一猜它们分别可能是什么图形?



我看到的立体图形的一个面是圆,但这个图形不是球。()

()


我看到的立体图形的一个面是长方形,但这个图形不是圆柱。




二 下面右边的三幅图分别是谁看到的?把相应的名字填在括号里。



()

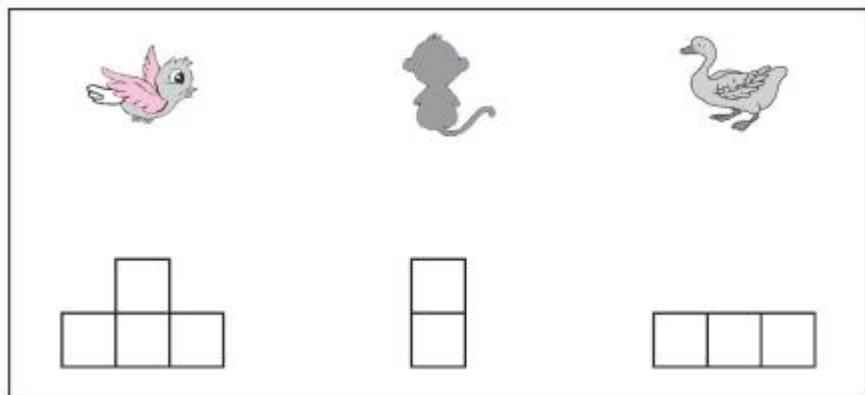



()


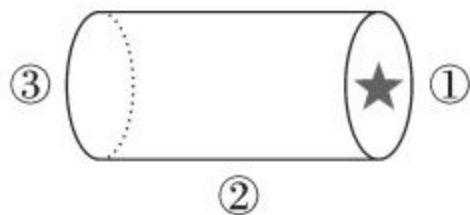


()

三 它们分别看到的是哪幅图？连一连。



四 下面右边的三幅图分别是 从哪个位置看到的？




()

()

()

五 连一连。



秒算

$5 \times 4 =$

$5 + 4 =$

$4 \times 3 =$

$4 \times 2 =$

$2 \times 3 =$

$3 \times 3 =$

$3 + 3 =$

$3 + 2 =$