



第 8 课时 练习课 [教材 P_{61~62}]

一 我会算。

$6 \times 2 + 6 =$

$3 \times 6 + 5 =$

$6 \times 4 + 8 =$

$6 \times 6 - 9 =$

$6 \times 3 =$

$6 \times 5 - 4 =$

$2 \times 6 - 7 =$

$1 \times 6 + 15 =$

二 在○里填上“+”“-”或“×”。

$6 \bigcirc 3 = 18$

$6 \bigcirc 4 = 2$

$6 \bigcirc 3 = 3$

$4 \bigcirc 6 = 24$

$3 \bigcirc 3 = 6$

$5 \bigcirc 6 = 30$

$6 \bigcirc 6 = 12$

$5 \bigcirc 3 = 8$

三 算一算,填一填。

×	1	2	3	4	5	6
4						
5						
6						

四 选卡片,写乘法算式。

2 4 3 6 12 5 20 24 30

$\square \times \square = \square$





$\square \times \square = \square$

$\square \times \square = \square$

$\square \times \square = \square$

$\square \times \square = \square$

$\square \times \square = \square$

五 一只  6 条腿, 2 只  () 条腿, 4 只  () 条腿, 6 只 
() 条腿。



快乐提升

六 小军和他的 2 个好朋友折纸鹤, 每人折了 6 只, 一共折了多少只?



名师讲解

