




第3课时 8的乘法口诀[教材 P₇₅]

一 看图填一填。



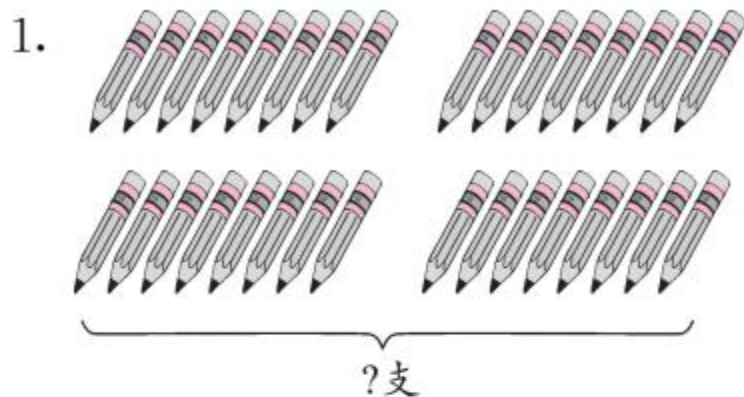
二 把下面的乘法口诀补充完整。

四八() ()八四十 八()六十四 二八()
()八二十四 七八() 一八() ()八四十八

三 算一算,填一填。


$7 \times 8 =$	$4 \times 8 =$	$8 \times 6 =$	$2 \times 8 =$
口诀: _____	口诀: _____	口诀: _____	口诀: _____
$1 \times 8 =$	$8 \times 8 =$	$5 \times 8 =$	$3 \times 8 =$
口诀: _____	口诀: _____	口诀: _____	口诀: _____

四 看图列式并写出乘法口诀。



$$(\quad) \times (\quad) = (\quad) (\text{支})$$

口诀: _____




$$(\quad) \times (\quad) = (\quad) (\text{条})$$

口诀: _____



快乐提升

五 章鱼,又叫八爪鱼。它的八条“爪”像带子一样,弯弯曲曲地漂在水中。1只章鱼有八条“爪”,那么2只,3只,4只……有多少条“爪”呢?

	只数	1	2	3	4	5	6	7	8
	条数	8							