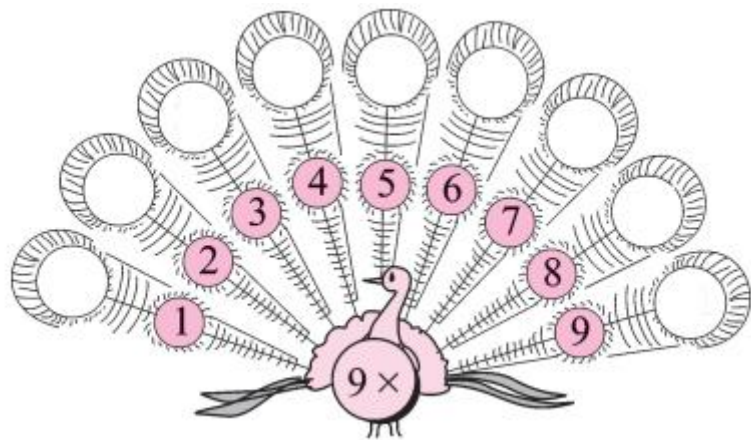


第 6 课时 9 的乘法口诀 [教材 P₈₀]

一 孔雀开屏。(算一算)



二 把下面的乘法口诀补充完整。

三九() ()九三十六 ()九得九
()六十三 ()五十四 五九()
二九() ()七十二 ()八十一

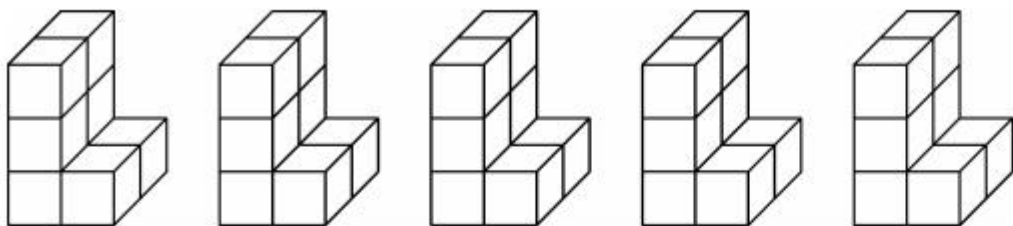
三 算一算。

$5 \times 9 =$ $6 \times 9 =$ $9 \times 9 =$ $7 \times 9 =$
 $9 \times 2 =$ $8 \times 9 =$ $9 \times 4 =$ $9 \times 3 =$



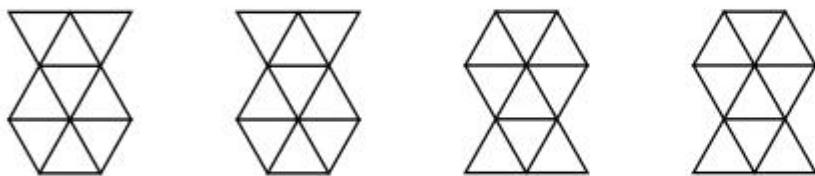
快乐提升

四 1.



$$\square \times \square = \square (\text{个})$$

2.



$$\square \times \square = \square (\text{个})$$

五 下面每组算式卡片的得数都相等,你能填出括号中的数吗?

9×7
$(\quad) \times 9 - 9$
$(\quad) \times 9 + 9$

$(\quad) \times 5$
$6 \times 9 - 9$
$(\quad) \times 9 + 9$

4×9
$(\quad) \times 9 + 9$
$(\quad) \times 9 - 9$