



第 9 课时 练习课 [教材 P₈₅]



开心！一练

一 计算我能行。

$8 \times 9 + 8 =$

$6 \times 9 - 37 =$

$4 \times 9 + 44 =$

$8 \times 7 + 16 =$

$7 \times 7 - 26 =$

$9 \times 5 - 28 =$

二 括号里最大能填几？

$8 \times (\quad) < 35$

$20 > 3 \times (\quad)$

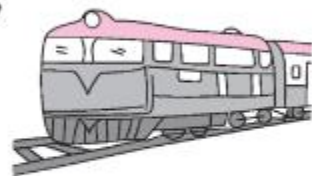
$(\quad) \times 6 < 46$

$(\quad) \times 9 < 60$

$40 > 8 \times (\quad)$

$5 \times (\quad) < 37$


三 车间一共有 50 个车轮，每节车厢有 4 个车轮，能组装出一列有 9 节车厢的火车吗？为什么？



车头有 8 个车轮。



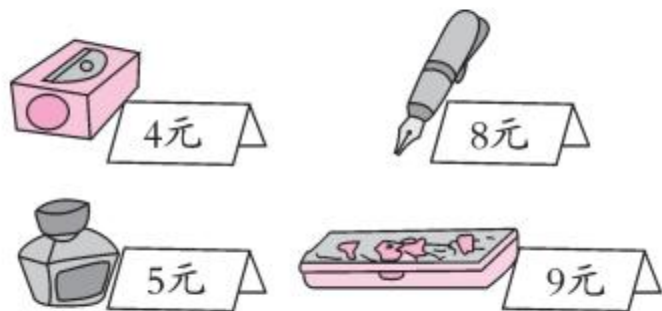
四 (湖北荆门市)李师傅买了 45 块地砖,想按照下面这样铺在地上,这些地砖够吗?



快乐!提升

五 文具商店。

1. 赵老师买了 8 个文具盒和 1 个卷笔刀,80 元够吗?



2. 你能提出其他用乘法解决的问题并解答吗?



秒算

$7 \times 2 =$

$6 \times 8 =$

$9 \times 7 =$

$6 \times 7 =$

$6 \times 6 =$

$5 \times 4 =$

$5 \times 6 =$

$8 \times 5 =$