




第 10 课时 整理和复习 [教材 P_{86~87}]








开心! 一练


一 巧手开锁。(把乘法算式与对应的口诀连起来)


$7 \times 9 =$ 


$6 \times 7 =$ 


$5 \times 7 =$ 


$8 \times 4 =$ 


$9 \times 3 =$ 


 三九二十七


 四八三十二


 六七四十二


 七九六十三


 五七三十五

$7 \times 5 =$ 

$3 \times 9 =$ 

$9 \times 7 =$ 

$7 \times 6 =$ 

$4 \times 8 =$ 

二 $8 \times 9 =$

$7 \times 7 =$

$9 \times 9 =$

$5 \times 8 - 7 =$

$4 \times 7 =$

$8 \times 4 =$

$3 \times 9 =$

$9 \times 6 + 8 =$

$3 \times 6 =$




$5 \times 6 =$

$8 \times 6 =$

$7 \times 8 + 5 =$

三 王老师在商店买了一些文具(如下表)。

1. 每种文具各花多少钱?

			
价 格	3 元	4 元	5 元
数 量	9 个	8 支	6 个
钱 数	元	元	元

2. 一共花了多少钱?



快乐！提升

四 肯德基早餐部分价格表如下。

1. 王老师买了 1 份香菇鸡肉粥和 1 个田园脆鸡堡，一共花了多少钱？

2. 小红买了 2 杯热牛奶，一共花了多少钱？

3. 你还能提出其他用乘法解决的问题并解答吗？

· 价目表 ·

田园脆鸡堡 9 元/个

香菇鸡肉粥 7 元/份

热牛奶 8 元/杯