



第 5 课时 观察物体 搭配





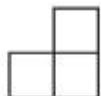
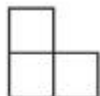

开心！一练

- 一 1. 用 2、4、7 组成两位数，每个两位数的十位数和个位数不能一样，能组成几个两位数？
2. 在 2、4、7 中任意选取其中 2 个求和，得数有几种可能？


二 (湖北黄石市) 下面 3 位小朋友分别看到的是什么？连一连。



三 下面右边的这些图分别是谁看到的？连一连。



四 3 个升旗手站成一排, 可以有几种不同的站法?



小李 小张 小王



快乐!提升

五 做一个运动达人。

从右边四项运动中,任意选取两项,一共有多少种不同的选法?

