



第 11 课时 练习课(教材第 33 页)



## 开心! 一练

### 一 算一算。

$2+3=$

$5-4=$

$4-1=$

$3-3=$

$2+0=$

$2+2=$

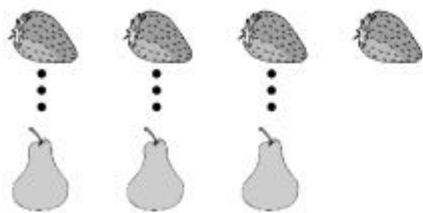
$3-0=$

$1+4=$

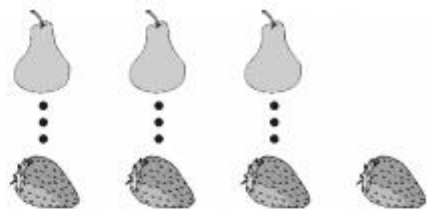
### 二 按数的顺序填一填。



三 比一比,填一填。



 比  多 \_\_\_\_\_。



 比  少 \_\_\_\_\_。

四 看图写算式。

1.



$$\square \bigcirc \square = \square$$

2.



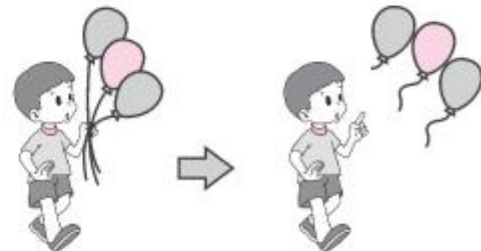
$$\square \bigcirc \square = \square$$

3.



$$\square \bigcirc \square = \square$$

4.



$$\square \bigcirc \square = \square$$



## 快乐提升

五  里可以填几？

$$\square < 4$$

$$\square > 2$$

$$5 > \square$$

$$\square < 2$$