




⑤ 6~10 的认识和加减法





第 1 课时 6 和 7 的认识(教材第 39~40 页)





开心！一练

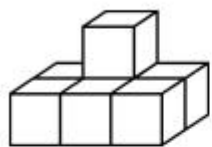
一 看图写数。



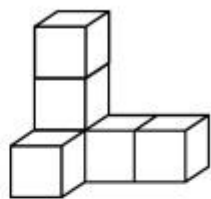
二 按顺序填数。

1		3		5		
---	--	---	--	---	--	--

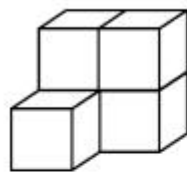
三 数一数,比一比。



()个



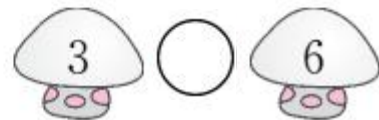
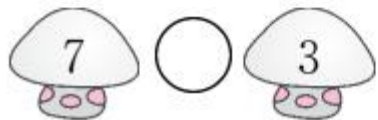
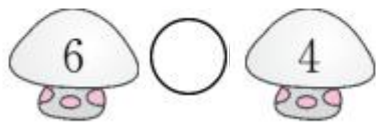
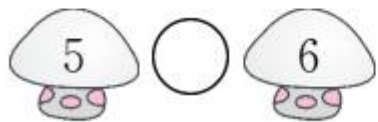
()个



()个



四 在○里填上“>”“<”或“=”。





快乐!提升

五



1. 一共有()瓶花。
2. 从左起第 7 瓶有()朵花,有 7 朵花的是第()瓶。
3. 把右边的 6 瓶花圈起来。