



第 7 课时 8 和 9 的加减法(教材第 53 页)



开心! 一练

一 看图写算式。

1.




$$5 + 3 = \square$$

$$3 + \square = \square$$

$$8 - 3 = \square$$

$$8 - \square = \square$$

2.



$$2 + 7 = \square$$

$$7 + \square = \square$$

$$9 - 2 = \square$$

$$9 - \square = \square$$

二 看谁算得又快又好。

$6+2=$

$5+4=$

$4+3=$

$3+5=$

$2+6=$

$4+5=$

$3+4=$

$5+3=$

$8-2=$

$9-4=$

$7-3=$

$8-3=$

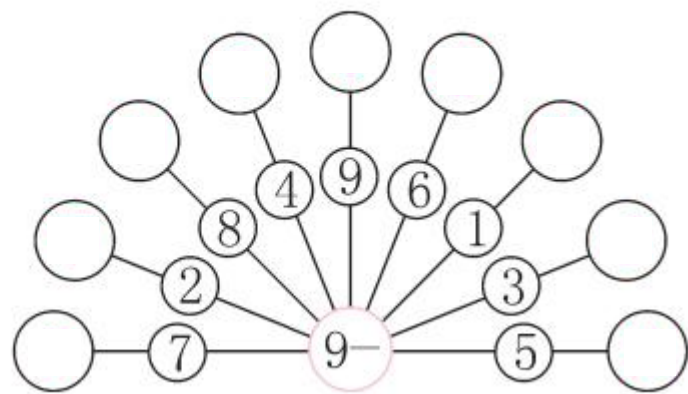
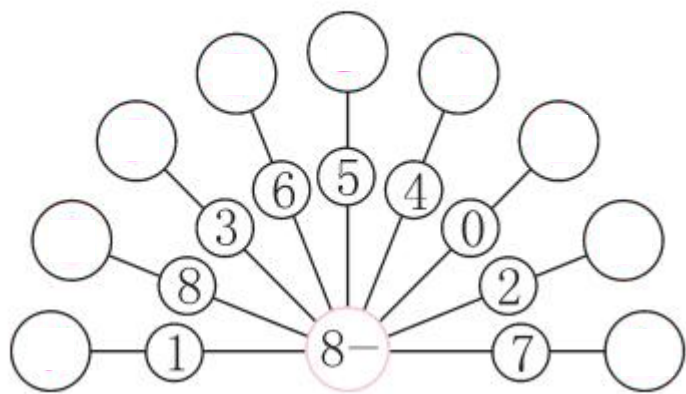
$8-6=$

$9-5=$

$7-4=$

$8-5=$

三 在○里填上合适的数。





快乐提升

四 数一数,填一填。



1. 一共有()盘 .
2. 第 1 盘有 8 个,第()盘和第()盘合起来有 8 个 ,第()盘和第()盘合起来有 9 个 .