



第 8 课时 练习课(教材第 54~56 页)



开心! 一练

一 看谁算得又对又快。

$8-5=$

$9-7=$

$3+6=$

$9-3=$

$4+5=$

$4+4=$

$9-4=$

$8-2=$

二 $6-3=$

$2+4=$

$7-3=$

$3+4=$

$8-3=$

$4+4=$

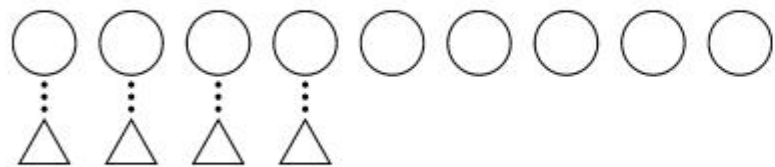
$9-3=$

$5+4=$

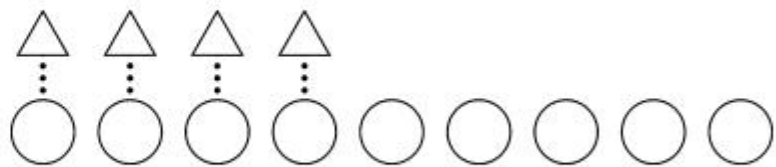
我发现每列算式中，下一个算式的得数比上一个多()。



三 比一比,填一填。

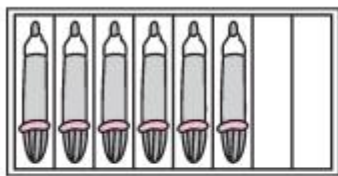


○比△_____个。



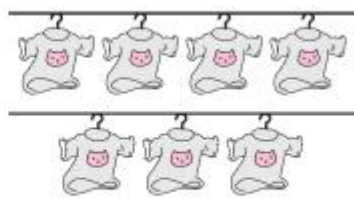
△比○_____个。

四 1.



$$6 + \square = 8$$

2.



$$7 + \square = 9$$



快乐提升

五 用下面的数,你能写出几组算式?

9 2 0 6 3

$$\square + \square = \square$$

$$\square + \square = \square$$

$$\square + \square = \square$$

$$\square + \square = \square$$

1 4 5 8 7

$$\square - \square = \square$$

$$\square - \square = \square$$

$$\square - \square = \square$$

$$\square - \square = \square$$