

# ⑥ 11~20 各数的认识

第 1 课时 11~20 各数的认识(教材第 74 页)



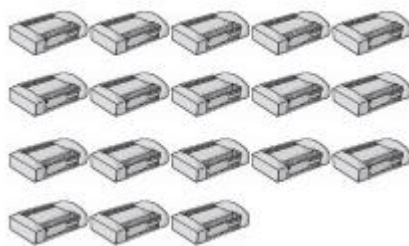


# 开心！一练

一 先圈出 10 个，接着数一数，再填出一共有多少个。



( ) 个

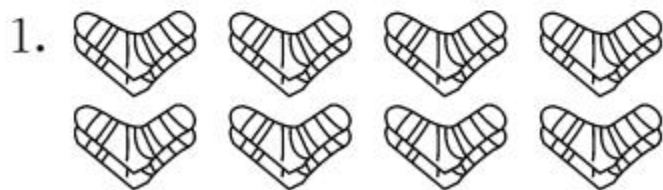


( ) 个



( ) 个

二 数一数。



( ) 只袜子



( ) 个手指

三 填一填。

1.  ( )个十和( )个一合起来是( )。

2.  ( )个十合起来是( )。

四 读出下面各数。

14 读作: \_\_\_\_\_

18 读作: \_\_\_\_\_

15 读作: \_\_\_\_\_

20 读作: \_\_\_\_\_

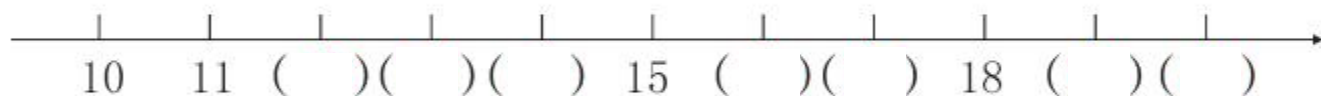
13 读作: \_\_\_\_\_

17 读作: \_\_\_\_\_



## 快乐提升

五 按数的顺序填一填。



1. 18 前面的一个数是( ), 18 后面的一个数是( )。
2. 与 13 相邻的数是( )和( )。
3. 15 和 17 中间的数是( )。