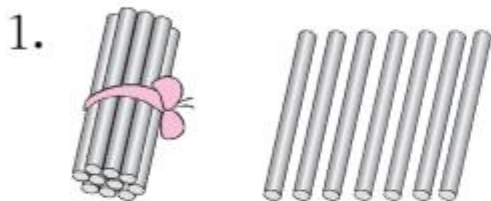


第3课时 11~20的加减法(教材第78页)



开心！一练

一 看图列式计算。



$$\square \bigcirc \square = \square$$

$$\square \bigcirc \square = \square$$

$$\square \bigcirc \square = \square$$



$$\square \bigcirc \square = \square$$

$$\square \bigcirc \square = \square$$

$$\square \bigcirc \square = \square$$

两位数加减一位数,先把个位上的数相加减,再与十位上的数合起来。



二 看谁算得又对又快。

$15+3=$

$9+10=$

$10+7=$

$17+2=$


$18-3=$


$19-10=$


$17-10=$

$19-2=$


三 连一连。


 $10+4$


 $15-10$


 $2+13$

 $11+5$

 $19-2$

 $9-4$

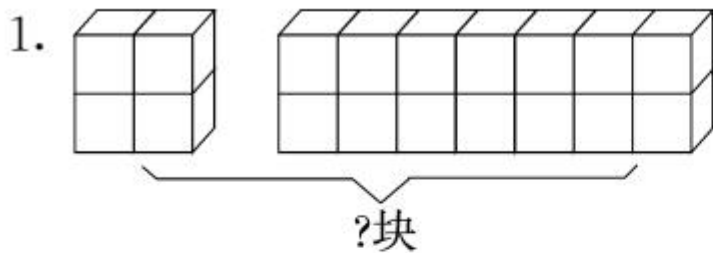
 $18-3$

 $17-1$

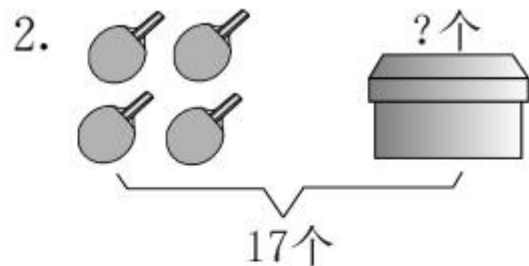
 $11+6$

 $16-2$

四 看图列式计算。



$$\square \bigcirc \square = \square \text{ (块)}$$




$$\square \bigcirc \square = \square \text{ (个)}$$





快乐提升

五 连一连,比一比。



 比  多 () 只;

 比  少 () 只。