

第5课时 数学乐园(教材第82~83页)



开心! 一练

一 这些动物各有几条腿?



() 条



() 条

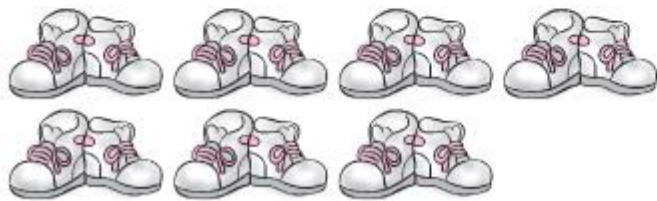


() 条



() 条

二 数一数。




() 双鞋



() 只袜子

三 填一填。

1. 黑板擦放在讲台的()面。

2.  一共有()个轮子。

3. 至少()个  可以拼成一个大正方体。

4. 星期天的后一天是星期()。

5. 星期二到星期五放假,放()天假。

6.



20		18		16		
----	--	----	--	----	--	--

7. 18 里面有()个十和()个一。

8. 14 的前一个数是(),后一个数是()。

9. 大于 16 小于 19 的数有()。

10. 如图,14 表示()。

13	14
11	12
9	10
7	8
5	6
3	4
1	2
	



快乐提升

四 在○里填上“>”“<”或“=”。

$20 \bigcirc 19$

$12 + 5 \bigcirc 19$

$11 + 7 \bigcirc 18$

$10 + 5 \bigcirc 13$

$13 \bigcirc 17$

$16 - 2 \bigcirc 14$

$13 + 3 \bigcirc 15$

$18 - 6 \bigcirc 10$