



第 2 课时 练习课(教材第 90 页)



开心! 一练

一



1	2	3	4	5	6	7	8	9
10								

二 算一算。

$9+8=$

$9+5=$

$3+6=$

$9+7=$

$10-2=$

$7-3=$

$9+2=$

$9-6=$

三 在○里填上“>”“<”或“=”。

$9+2 \bigcirc 10$

$9+7 \bigcirc 16$

$9+4 \bigcirc 14$

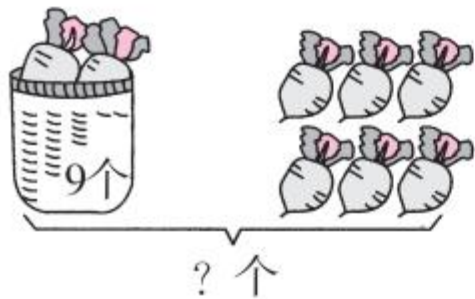
$9+9 \bigcirc 20$

$15 \bigcirc 9+5$

$9+7 \bigcirc 15$

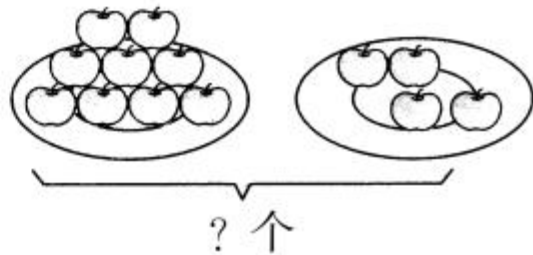
四 看图列式计算。

1.



$\square + \square = \square \text{ (个)}$

2.




$\square + \square = \square \text{ (个)}$



快乐!提升

五



一共有几只兔子?

$$\square + \square = \square \text{ (只)}$$