




第3课时 8、7、6 加几(1)(教材第91页)




# 开心！一练

## 一 圈一圈，算一算。



$$8 + 3 = \square$$



$$7 + 6 = \square$$

## 二 比一比，算一算。

$$7 + 3 + 2 =$$

$$7 + 5 =$$

$$6 + 4 + 3 =$$

$$6 + 7 =$$

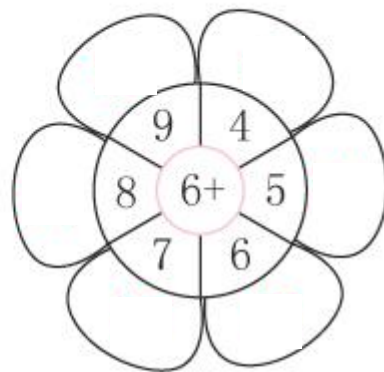
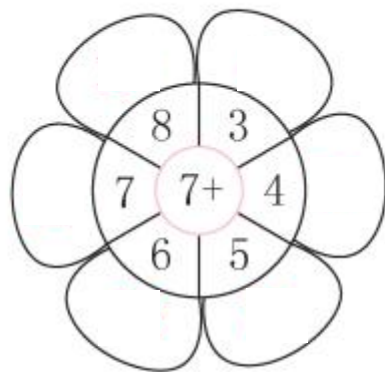
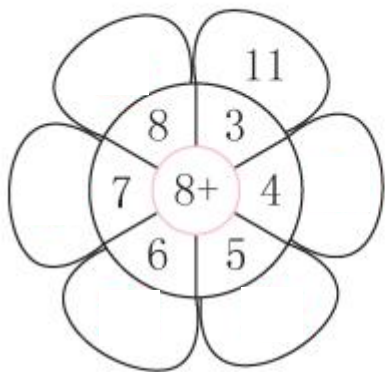
$$8 + 2 + 5 =$$

$$8 + 7 =$$

$$8 + 2 + 3 =$$

$$8 + 5 =$$

三 算一算，把得数写在花瓣上。



四 在○里填上“>”“<”或“=”。

$$7+5 \bigcirc 13$$

$$8+5 \bigcirc 13$$

$$7+4 \bigcirc 12$$

$$8+6 \bigcirc 16$$

$$7+6 \bigcirc 12$$

$$7+8 \bigcirc 14$$



## 快乐！提升

五 (湖北随州市) 写出不同的加法算式。

$$6 + 6 = \begin{cases} \square + \square \\ \square + \square \\ \square + \square \end{cases}$$

$$8 + 6 = \begin{cases} \square + \square \\ \square + \square \\ \square + \square \end{cases}$$