






# 9 总复习

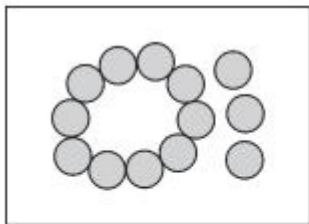
第 1 课时 20 以内的数的认识



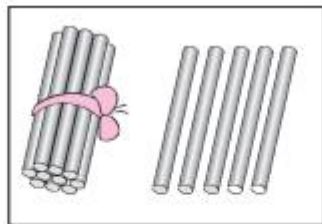


# 开心! 一练

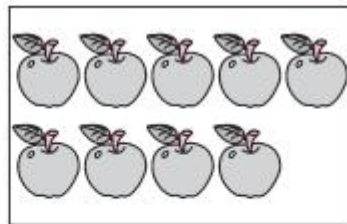
一 看图写数。



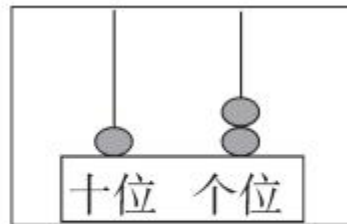
(     )



(     )



(     )



(     )



## 二 填一填。


1. 

11				15	16		18		
----	--	--	--	----	----	--	----	--	--

15		13		
----	--	----	--	--

2. (湖北武汉市) 

(1) 一共有( )片树叶, 从左往右数  排在第( )。

(2) 从( )往( )数,  排在第( )。

3. 1个十和4个一合起来是( )。

4. 12里面有( )个十和( )个一。20里面有( )个十。

5. 13前面一个数是( ), 后面一个数是( )。

6. 与17相邻的两个数是( )、( )。

7. 在  里填上适当的数。

$12 > \square$

$13 < \square$

$\square < 15$

$\square > 19$



## 快乐提升

### 三 填一填,画一画。

1. 在多的后面画“√”,在少的后面画“○”。



(填“多”或“少”)( )个。

2. 在下面的直线上画○,画的个数比△多,比□少。

