



第3课时 认识图形、位置、钟表



开心！一练

一 填一填。

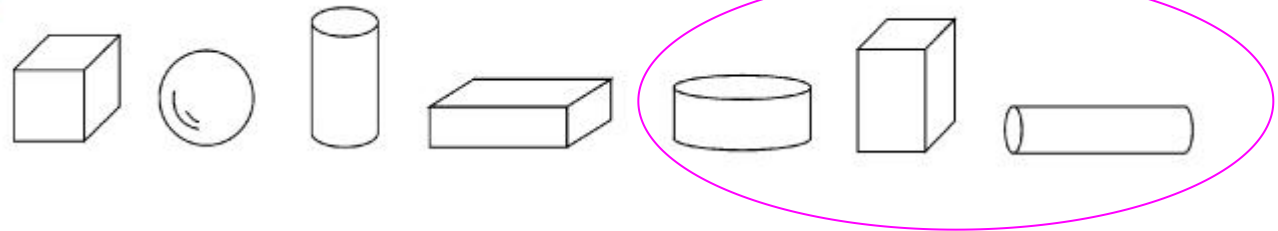


1. 海尔冰箱的冷藏柜分()层,从上往下数,在第()层,在第()层。
2. 在的()面,在的()面。
3. 在的()边,在的()边。

- 二 1. 走楼梯的时候一般要靠右边行走,红红走的是楼梯的()边,小宇走的是楼梯的()边。
2. 王亮走在张莹的()面,张莹走在小宇的()面。



三



1. 从左起第()个是球,球的左边是(),右边是(),有()个圆柱体,有()个长方体。
2. 把右边的3个物体圈起来。

四 连一连。



9时



4时



6时



10时刚过



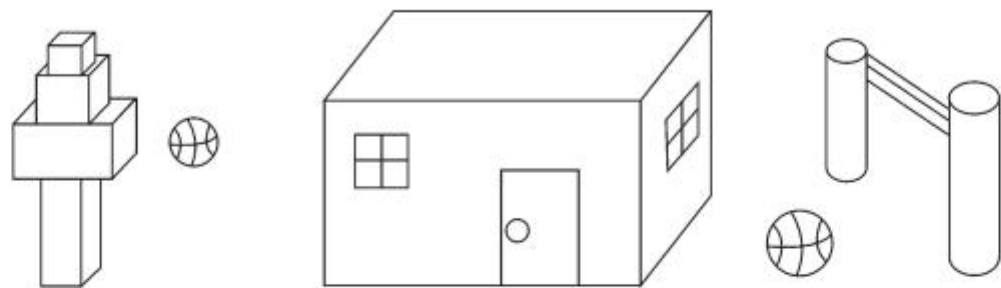
快1时了



12时



五 数一数。



正方体()个 长方体()个 球()个 圆柱()个

六 看钟面写时间。



:



:



:



:

七

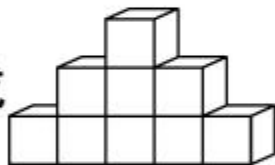
我比妈妈
晚一小时
起床。



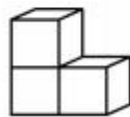
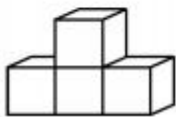
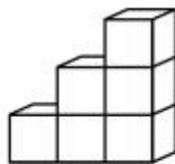
妈妈的起床时间是()。

八

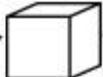
哪两堆积木可以拼成

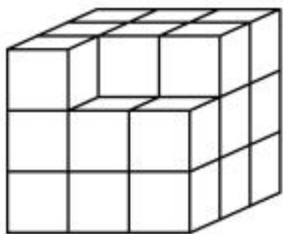


,用线连起来。

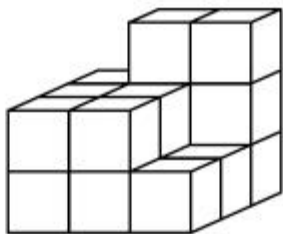




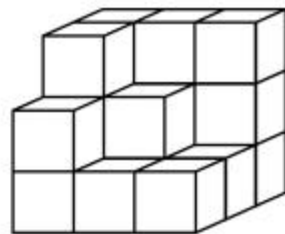
九 要拼成一个大正方体,下面的图形至少还需要几个  ?



还需要()个。



还需要()个。



还需要()个。

