

第2课时 数的排列规律

1. 在○里填上 >、< 或 =。

$3 \times 9 \bigcirc 24$

$4 \times 9 \bigcirc 36$

$9 \times 6 \bigcirc 56$

$56 - 24 \bigcirc 32$

$64 - 8 \bigcirc 54$

$16 + 60 \bigcirc 8 \times 9$

$6 + 5 \bigcirc 2 \times 5$

$1 \times 8 \bigcirc 1 + 8$

$3 \times 3 \bigcirc 9 \times 1$

$8 \times 6 \bigcirc 9 \times 5$

$8 \times 3 \bigcirc 52 - 25$

$17 + 24 \bigcirc 81 - 56$

$47 + 25 \bigcirc 9 \times 9$

$12 + 25 \bigcirc 4 \times 7$

$52 - 15 - 8 \bigcirc 8 + 16 + 17$

2. 填 +、-、× 或 ÷。

$12 \bigcirc 2 = 6$

$15 \bigcirc 5 = 10$

$5 \bigcirc 2 = 10$

$45 \bigcirc 9 = 5$

$12 \bigcirc 3 = 15$

$81 \bigcirc 9 = 9$

$27 \bigcirc 3 = 9$

$35 \bigcirc 7 = 5$

$36 \bigcirc 4 = 32$

$9 \bigcirc 3 = 12$

$2 \bigcirc 3 = 6$

$6 \bigcirc 4 = 24$








3. 用竖式计算。








$7 \times 5 =$

$2 \times 8 =$

$20 \div 4 =$

4. 按规律填数。

(1)  46  41  36  31   

(2)  14  21  28  35   

5. 先找规律, 然后填上合适的数。

14	12	4	8		16
7	6	2	4	5	