





2. 2~6 的乘法口诀

第 1 课时 2、3 的乘法口诀


1. 比一比, 算一算。

		
$2 \times 1 =$	$3 \times 2 =$	$3 \times 3 =$
$1 \times 2 =$	$2 \times 3 =$	$2 \times 2 =$


2. 看图写出乘法算式和口诀。

(1) 

$\square \times \square = \square$ 或 $\square \times \square = \square$ 口诀: _____











(2) 

$\square \times \square = \square$ 口诀: _____

(3) 

$\square \times \square = \square$ 口诀: _____

3. 连一连。

 $3 \times 2 = 6$	 $2 \times 2 = 4$	 $3 \times 3 = 9$	 $1 \times 3 = 3$	 $1 \times 1 = 1$
 一三得三	 一一得一	 二三得六	 三三得九	 二二得四