











第4课时 解决实际问题

1. 小兔子拔萝卜。(连一连)





				
$15+19+34$	$56-18-24$	$42-16+27$	$63-(28+16)$	$44-(72-48)$
 14	 68	 20	 53	 19

2. 算一算, 填一填。

25	+13		-18		
17					
32					
29					

71	-25		+37		
62					
86					
59					

- 一捆电线长 100 米, 先用去 20 米, 又用去 38 米, 现在还剩下()米。
- 育人小学有 32 名教师, 希望小学有 23 名女教师, 15 名男教师, 希望小学比育人小学多()名教师。
- 小亮喜欢集邮, 他收集了 32 枚风景邮票, 51 枚人物邮票, 17 枚动物邮票, 他一共收集了()枚邮票; 他收集的人物邮票比风景邮票和动物邮票的和多()枚。
- 购物。

			
25 元	37 元	46 元	16 元

- 一把茶壶比一把雨伞和一个闹钟便宜()元。
- 翠翠想买一把雨伞、一把茶壶和一个闹钟, 一共需要()元。
- 莲莲带了 84 元, 买了一把雨伞和一个书包, 她还剩()元。
- 秀秀买了一把茶壶和一个书包, 还剩 16 元, 她原来有()元。