

第2课时 观察立体图形

1. 算一算。

$32 + 11 =$

$26 + 22 =$

$63 - 41 =$

$45 - 32 =$

$56 - 44 =$

$75 + 24 =$

$66 + 14 =$


$27 - 9 =$

$31 - 15 =$

$72 - 46 =$


$55 + 25 =$

$39 + 29 =$

2. 在  填上 >、< 或 =。


$56 + 17$  70

$35 - 12$  24

$18 + 12$  40

$36 - 14$  22

$58 + 12$  69

$84 - 65$  29

$77 - 25$  $12 + 43$

$52 + 19$  $99 - 12$


$67 - 18$  $22 + 27$

$43 - 22$  $44 - 12$

$68 - 32$  $57 - 26$

$38 - 24$  $62 - 41$

3. 计算出小熊气球里两个数的和与差。



和: _____

和: _____

和: _____

和: _____

差: _____

差: _____

差: _____

差: _____

4. 右面两幅图分别是哪个小朋友看到的? 连一连。

