



第 14 课时 整理和复习 [教材 P_{81~84}]





开心！一练

一 口算下面各题，并说说哪些算式中的 6 和 2 可以直接相加，在它下面画上“~~~~~”。

$46+2=$

$46+20=$

$45+8=$

$64+2=$

$64+20=$

$54+8=$

二 口算下面各题，并说说哪些算式中的 7 和 3 可以直接相减，在它下面画上“~~~~~”。

$47-3=$

$47-30=$

$47-8=$

$74-3=$

$74-30=$

$74-8=$

三 想一想，下面各题应先算什么，再计算。

$13+(7+3)=$

$65-(16-10)=$

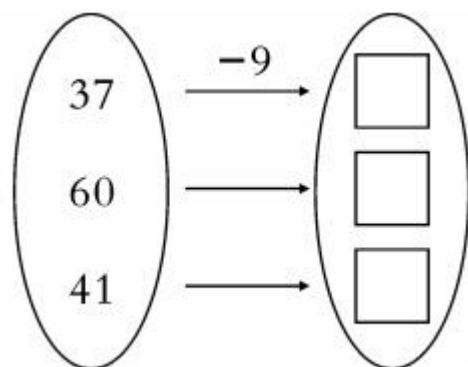
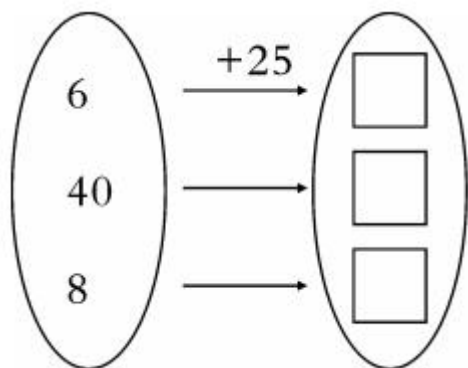
$28+(9-3)=$

$46+(13-6)=$

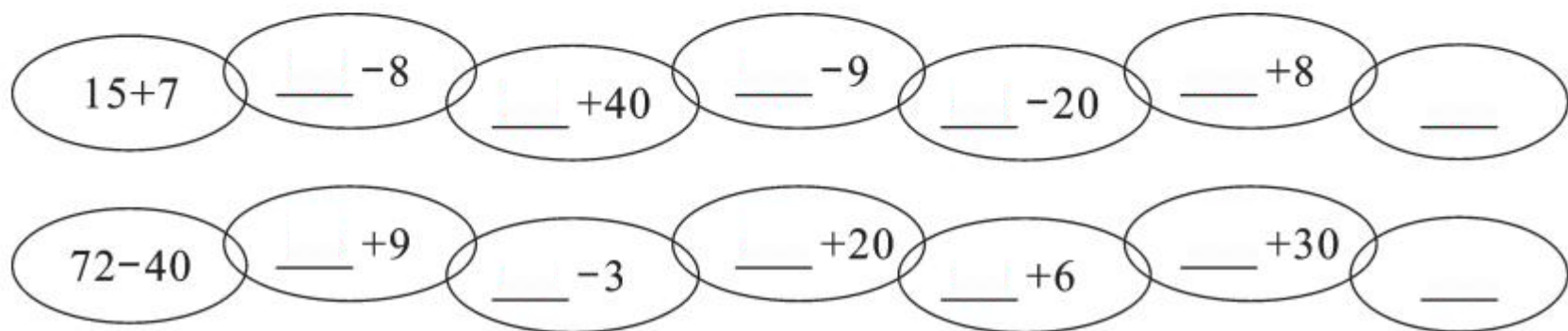
$50+30-40=$

$60+12-4=$

四



五 看谁算得都对。





快乐提升

六 还剩多少个球？

其中30个是排球。



共借走20个球。



共72个球

七 (许昌市魏都区)小松鼠比小兔子少采了多少个蘑菇？

我采了43
个蘑菇。

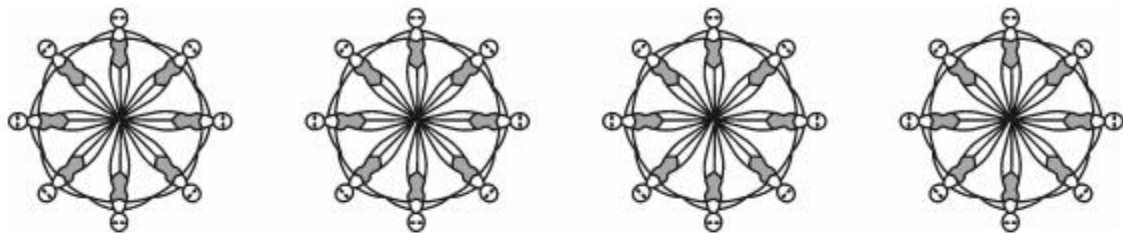


我采了40
个蘑菇。

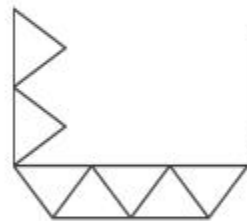


八 水上芭蕾。

一共有多少人？




九 用 40 个小三角形拼成下面的小船图形，可以拼成多少条小船？



拼一个小船
要用7个△。



十 需要几次才能把桃全部搬走？



我摘了35个桃，
每次搬7个。

十一

这里有20只蝴蝶和15只蜜蜂。



看，又来了8只蜜蜂!

1. 现在一共有多少只蜜蜂?

2. 你还能提出其他数学问题并解答吗?

十二 【拓展题】在□里填上合适的数。

$$46 + \square = 54$$

$$\square - 60 = 16$$

$$30 + 15 > \square$$

$$\square - 7 < 37$$

$$\square + 8 > 35$$

$$28 - \square = \square + 28$$



秒算

$25 + 40 =$

$39 - 7 =$

$30 + 60 =$

$12 + 9 =$

$70 - 3 =$

$62 - 50 =$

$16 + 9 =$

$24 - 10 =$