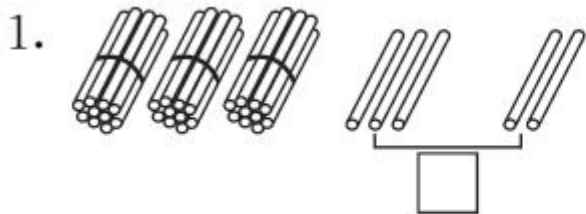


第 2 课时 两位数加一位数(不进位)、整十数 [教材 P₆₄]

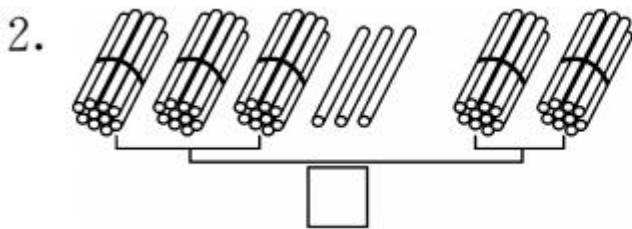


开心！一练

一 摆一摆，算一算。



$$33 + 2 = \square$$



$$33 + 20 = \square$$

二 比一比，算一算。

$4 + 3 =$

$3 + 5 =$

$20 + 60 =$

$60 + 20 =$

$54 + 3 =$

$3 + 65 =$

$23 + 60 =$

$60 + 25 =$

三 看谁算得对。

$49 + 30 =$

$50 + 27 =$

$5 + 22 =$

$33 + 6 =$

$24 + 70 =$

$43 + 5 =$

$6 + 42 =$

$25 + 50 =$



快乐提升

四 青蛙是我们的好朋友。



它们一共吃了多少只害虫？


$\square \bigcirc \square = \square \text{ (只)}$

五

我已经吃了2个桃。



还剩下26个桃，原来一共有多少个？





秒算

$10+20=$

$14-4=$

$19-8=$

$25+4=$

$28-4=$

$24-4=$

$30+40=$

$40-30=$