

第3课时 简单的计算 [教材 P₅₇]



开心！一练

一 填一填。

$2 \text{ 元 } 4 \text{ 角} = (\quad) \text{ 角}$

$7 \text{ 角 } 8 \text{ 分} = (\quad) \text{ 分}$

$4 \text{ 元 } 7 \text{ 角} = (\quad) \text{ 角}$

$3 \text{ 元 } 8 \text{ 角} = (\quad) \text{ 角}$

$62 \text{ 角} = (\quad) \text{ 元 } (\quad) \text{ 角}$

$16 \text{ 角} = (\quad) \text{ 元 } (\quad) \text{ 角}$

二 算一算。

$8 \text{ 角} - 3 \text{ 角} = (\quad) \text{ 角}$

$9 \text{ 角} + 5 \text{ 角} = (\quad) \text{ 元 } (\quad) \text{ 角}$

$4 \text{ 元} + 7 \text{ 元} = (\quad) \text{ 元}$

$6 \text{ 角} + 5 \text{ 元 } 3 \text{ 角} = (\quad) \text{ 元 } (\quad) \text{ 角}$

$7 \text{ 角} + 4 \text{ 角} = (\quad) \text{ 元 } (\quad) \text{ 角}$

$1 \text{ 元 } 5 \text{ 角} - 8 \text{ 角} = (\quad) \text{ 角}$

三 买文具。



5元



5角





15元



8元5角



8角

1.  和  一共多少钱?

2.  比  贵多少钱?

3. 你还能提出什么数学问题?



快乐提升

四



8角



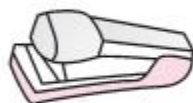
7元



1元2角



5角



12元

买的物品			
应付的钱数			
付的钱数			
应找的钱数			