



第 8 课时 用数学 [教材 P₄₆]



开心! 一练

一 我会算。

$8+7=$

$18-9=$

$10+8=$

$13-4=$


$15-5=$

$12+6=$

$17-10=$

$12-5=$

二 有 37 个包子, 每 10 个装一笼, 能装满几笼?

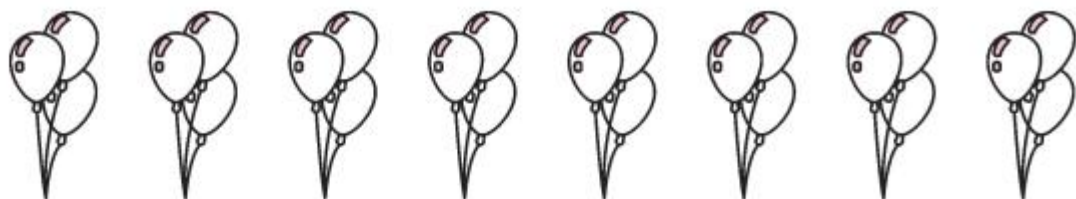


我每10个圈一圈, 圈了()次, 还多()个。所以能装满()笼。

37里面有()个十和()个一, 所以能装满()笼, 还多()个。



三 每3个气球扎一束,扎了8束。如果每6个气球扎一束,可以扎几束?



口答:可以扎()束。



快乐!提升


四 3个箱子能装下这些牛奶吗?圈出正确答案。



(能 不能)



五 (河北秦皇岛市)有 27 个苹果,8 个装一袋,可以装满几袋?



可以圈一圈,也可以算一算!



可以装满 袋,还剩 个。

