

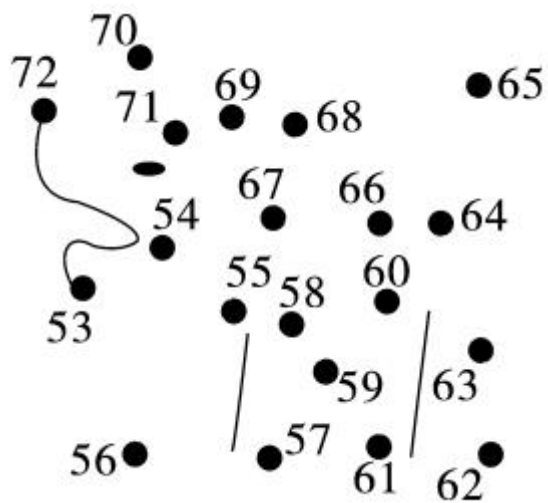


第 5 课时 数的顺序 [教材 P₄₁]



开心！一练

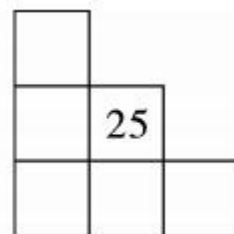
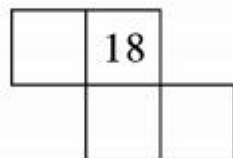
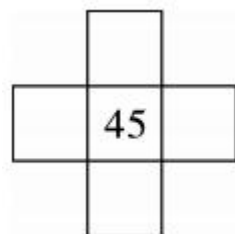
一 从 53 起到 72 按顺序用线连起来，看看是什么？



二 按照数的顺序,在空格里填数。

1	2	3		5		7		9	
	12						18		
		23				27			
			34		36				
				45					
			54		56				
		63				67			
	72						78		
81								89	
									100

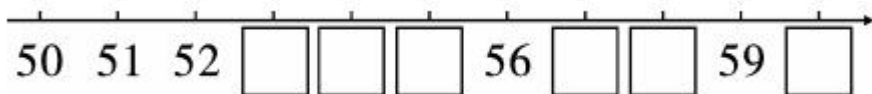
1. 把个位是 6 的数涂上红色,十位是 5 的数涂上绿色,个位和十位相同的数涂上黄色。
2. 第 4 行第 6 个数是();第 8 行第 9 个数是()。
3. 按照左表中的排列,在下面的空格中填上适当的数。





快乐提升

三 先填空,然后在正确答案下面画“√”。



53 更接近(50 60),58 更接近(50 60)。

四 填一填。

1. 和 70 相邻的两个数是()和()。
2. 78 到 82 之间有()个数。
3. 比 30 小 1 的数是(),比 99 多 1 的数是()。



秒算

$16-8=$

$4+7=$

$13-8=$

$13-6=$

$12-7=$

$2+9=$

$11-5=$

$17-9=$