




第 4 课时 练习课 [教材 P_{38~40}]



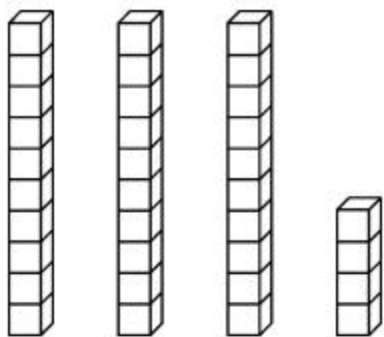


开心！一练

一 数出 38 个苹果并圈起来。

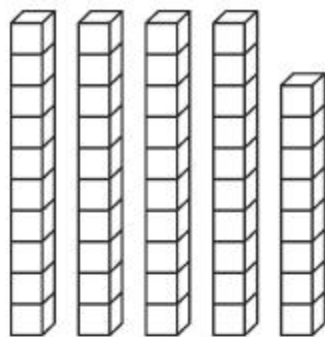


二 1.



()个十和()个一
合起来是()。

2.




48 添 2 是()个十,
()个十是()。



快乐提升

三 数一数,填一填。



\triangle 有()个, \blacktriangle 有()个。
一共有()个小三角形。

我__个__个或
__个__个地数,
能很快数出小三
角形的个数。



四 【拓展题】卡片上的数可能是多少？

个位上的数和十位上的数合起来是7的两位数。



<input type="text"/>	<input type="text"/>
----------------------	----------------------